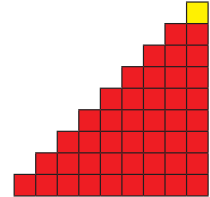


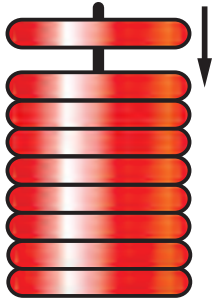



# Урок 41

1 2 3 4 5 6 7 8 9 дзевяць




1.



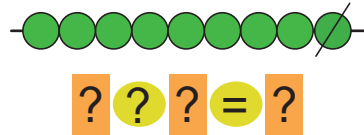
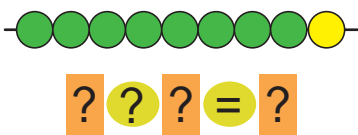
Урок 9



2.



3.



4.



$9 - 1$

$8 - 1$

$7 - 1$




$6 - 1$



$5 + 1$



$6 + 1$

$7 + 1$

$8 + 1$

5. Тата злавіў 4 , а Віця — 3 .  
Колькі ўсяго  злавілі тата і Віця?  
Параўнай кароткія запісы.

Тата — 4 .  
Віця — 3 .  
Усяго — ?

Тата — 4 .  
Віця — 3  } ?















6. Знайдзі шэсць адрозненняў.



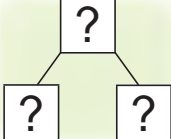




Лікі адбіліся ў люстэрку.  
Запішы іх у парадку павелічэння.

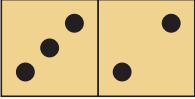





Дзевяць — гэта:

		<b>восем і адзін</b>
		<b>сем і два</b>
		<b>шэсць і тры</b>
		<b>пяць і чатыры</b>
		<b>чатыры і пяць</b>
		<b>тры і шэсць</b>
		<b>два і сем</b>
		<b>адзін і восем</b>



1.   

2.    

$3 + 2$	$2 + 4$	$3 + 4$	$5 + 3$
$5 - 3$	$6 - 2$	$7 - 3$	$8 - 5$
$5 - 2$	$6 - 4$	$7 - 4$	$8 - 3$

3. Колькі? На колькі больш?

	6	6	6	6	6				
	8	8	8	8	8	8	8	8	
	7	7	7	7	7	7	7	7	7
	9	9	9	9	9	9	9		

4.




$8 + 1$


$9 - 1$

$7 + 1$


$8 - 1$

5. Складзі і рашы задачы.

Было — 6 

Прывезлі — 2 

Стала — ?

Было — 8 

Прадалі — 2 

Засталося — ?

6.



5 рублёў



2 рублі



4 рублі



$9 = 3 + ?$

$9 = 2 + ?$

$9 = 4 + ?$



$9 ? 2$

$7 ? 9$

$2 ? 7$

# Урок 43

$$5 + 4 = ?$$

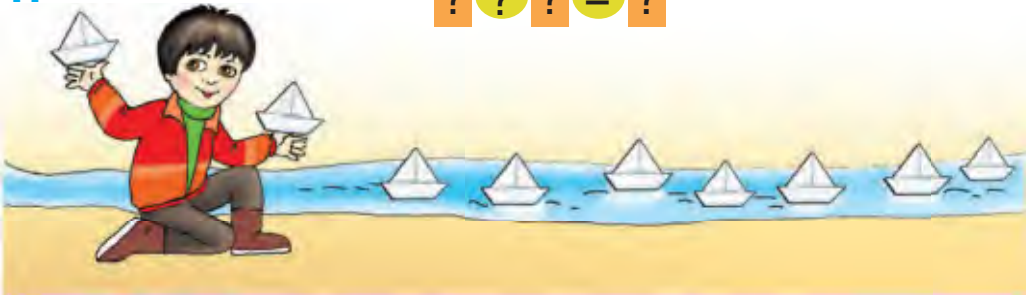


$$9 - 4 = ?$$



1.

$$? ? ? = ?$$



2. Пабудуй схемы.

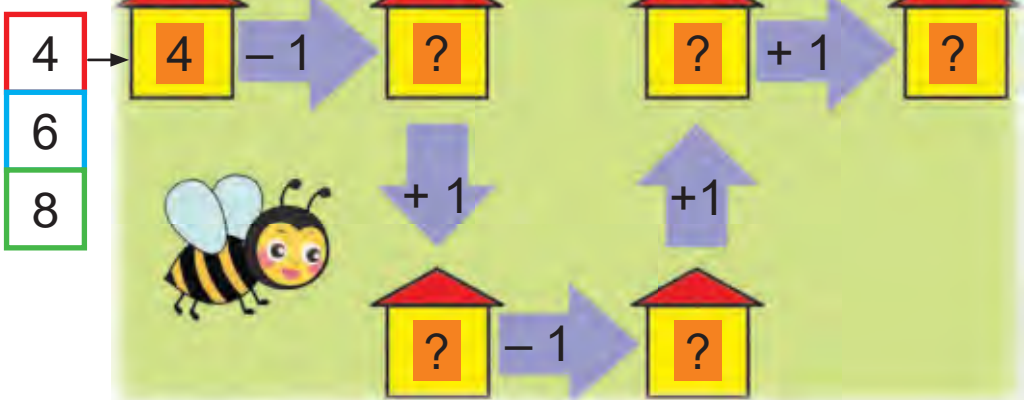
$6 + 3$

$9 - 3$

$2 + 6$

$8 - 6$

3.



4.



$2 + ? = 9$

$5 + ? = 9$

$6 + ? = 9$

$9 - 2 = ?$

$9 - 5 = ?$

$9 - 6 = ?$

$9 - ? = 2$

$9 - ? = 5$


$9 - ? = 6$


5. Дапоўні тэкст. Рашы задачы.

У вожыка было ? .

Ён знайшоў яшчэ ? .

Колькі  стала?

Было — 6 .

Знайшоў — 3 .

Стала — ?

6. Вавёрка знайшла 9 . Яна з'ела 2 .

Колькі  засталася ў вавёркі?



$1 + 8 = ?$

$9 - 8 = ?$



$4 + ? = ?$


$2 + ? = ?$

$? - 5 = ?$

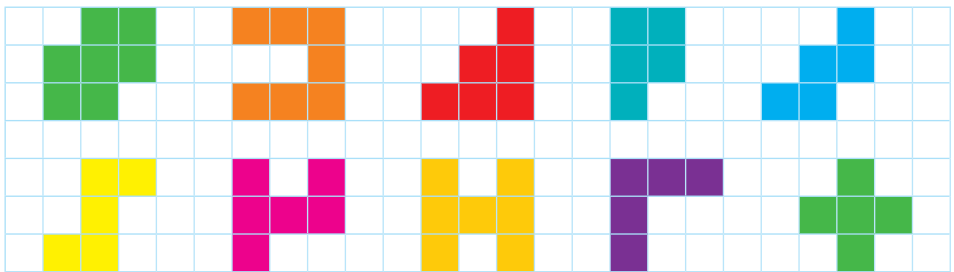
$? - 7 = ?$

# Урок 44

1. Назаві лічбы.

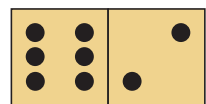
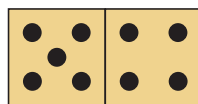
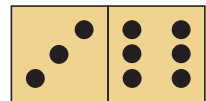
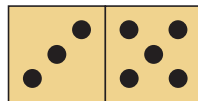


2. Колькі клетак не хапае да 9 у кожнай фігуры?





3.

$5 + 1 = 6$
$5 < 6$
$6 > 1$







4. Дапоўні тэкст задачы па малюнку.  
Рашы задачу.

Было ? . Паляцелі ? .

Колькі  засталася?



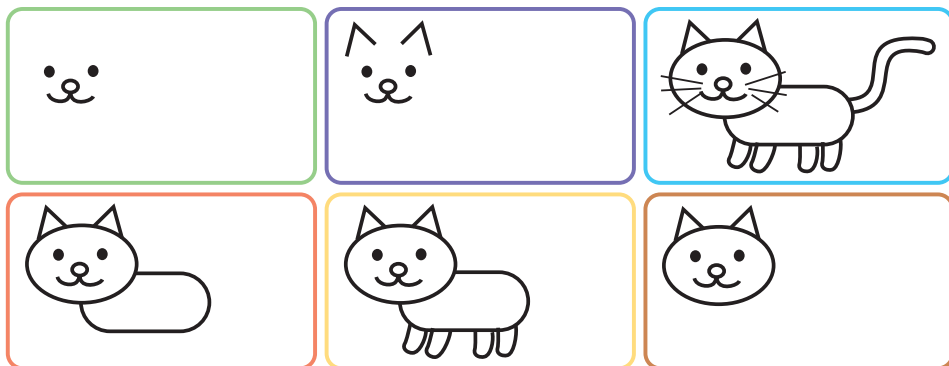
5. Параўнай і рашы задачы.

- Было 4 . Пабудаваў яшчэ 5 .  
Колькі дамоў стала?
- На вуліцы было 4  і 5 .  
Колькі ўсяго дамоў было?

6. Галя справа ад Каці. Галя злева ад Машы.  
Як каго завуць?



7. Што спачатку? Што потым?



Было 6 . Вынеслі 4 .

Колькі  засталася?