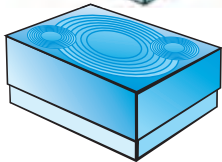


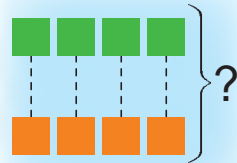
У Стасі 4 .

У Яся стільки ж .

Колькі усього шароу у дзяцей?



$$4 + 4 = 8 \text{ (ш.)}$$

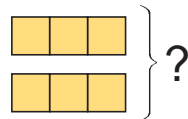



Адказ: 8 шароу.



1. Было 3 .

Купілі стільки ж .

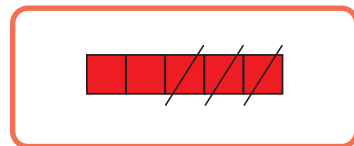
Колькі  стала?



2. Выберы схему для рашэння задачы.
Рашы задачу.

Было 5  і стільки ж .

Паляцелі 3 . Колькі  засталася?



3. Якія знакі дзеянняў схаваны за *?

$$3 * 1 = 2$$

$$5 * 1 = 6$$

$$7 * 1 = 8$$

$$6 * 1 = 7$$

$$9 * 1 = 8$$

$$4 * 1 = 5$$

4. Назаві лікі ў парадку павелічэння.
Разгадай слова.

4	3	1	8	2	6	9
в	е	д	ц	з	я	ь

5.

Дапоўні да 9						
2	5	3	1	7	4	6

Дапоўні да 8						
2	5	3	1	7	4	6

6.



?	?	?	



Складзі задачу са словамі «столькі ж».



1	2	3	4	5	6	7	8	9
---	---	---	---	---	---	---	---	---

$5 + 1 \text{ ? } 7$

$7 - 1 \text{ ? } 8 + 1$

$9 - 1 \text{ ? } 8$

$6 + 1 \text{ ? } 6 - 1$