

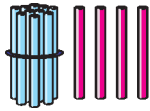


Урок 56

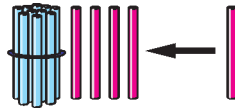
пятнаццаць



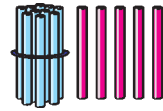
Што было?



Што змянілася?



Што стала?




Дзясятак	Адзінкі
1	5





$10 + 5 = 15$
$15 - 5 = 10$
$15 - 10 = 5$

- | | | | |
|----------|-----------|----------|-----------|
| $15 - 5$ | $15 - 10$ | $15 - 0$ | $10 + 4$ |
| $14 + 1$ | $15 - 15$ | $14 - 1$ | $14 - 4$ |
| $10 + 5$ | $15 + 0$ | $15 - 1$ | $14 - 10$ |

- Дапоўні ўмову задачы па малюнку. Рашы задачу. Пасадзілі ? ліп і ? клёнаў. Колькі ўсяго дрэў пасадзілі?









3. Дзеці злавлі 15  .
 Кот Шустрык з'еў 3  ,
 а кот Барсік — столькі ж  .
 Колькі  з'елі каты?

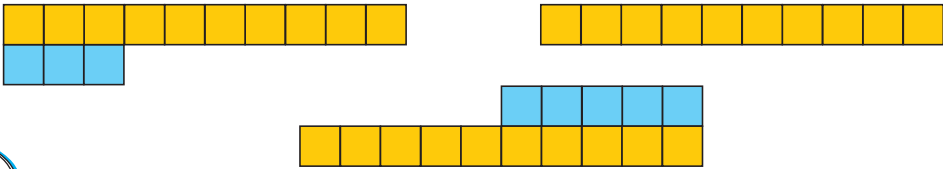
4. Дапоўні да 10 лікі:

2 7 1 6 0 3 5 9

5. Колькі? На колькі больш?

	А	А	А	А	А	А	А	А		
	Б	Б	Б	Б	Б	Б	Б	Б	Б	Б
	Р	Р	Р	Р	Р	Р				
	У	У	У	У	У	У	У			

? Назаві лікі.



Якія знакі дзеянняў схаваны за ★?

14 ★ 1 = 13

12 ★ 1 = 11

13 ★ 1 = 14

10 ★ 2 = 12