





Урок 57




1 гадзіна

1 гадзіна



9 гадзін


9 гадзін



6 гадзін

6 гадзін

1.



2.

Было Стала

Прайшла 1 гадзіна.

Было Стала

Прайшло ? гадзіны.

3. Раствлумач схему і рашэнне задачы.

Спачатку 2 г дзеці , а потым 1 г .

Колькі ўсяго гадзін дзеці гулялі?

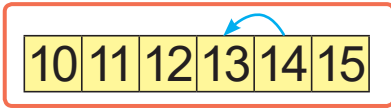


$$2 + 1 = 3 \text{ (г)}$$



4. $10 + 4$ $10 + 2$ $10 + 5$ $14 + 1$
 $14 - 4$ $12 - 2$ $15 - 5$ $13 - 1$
 $14 - 10$ $12 - 10$ $15 - 10$ $11 - 11$

5. Выберы прыклад.



$$12 + 1$$



$$14 - 1$$

6. Выберы правільнае рашэнне задачы.

У кнізе 10 старонак.


Дзіма прачытаў 5 старонак.

Колькі старонак засталася прачытаць?

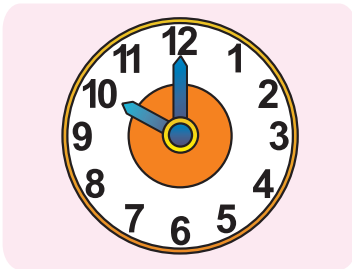
$$10 + 5 = 15$$

$$10 - 5 = 5$$

7. Колькі набораў з дзвюх цукерак можна скласці?



- ? Колькі часу?



Састаў і рашы прыклады.

