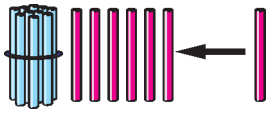


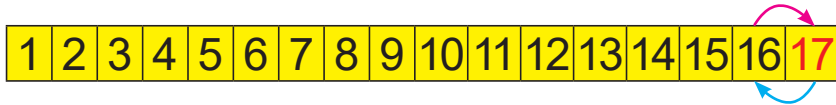


Урок 60



сямнаццаць **17**

1	7
---	---



$16 + 1 = ?$ $17 - 1 = ?$

Дзясятак	Адзінкі
1	7

$10 + 7 = ?$
$17 - 7 = ?$
$17 - 10 = ?$

1. Назаві ў парадку памяншэння лікі:

- 15 16 13 17 14 12


2.

3. $0 + 1$ $16 + 1$ $10 - 1$ $11 - 1$
 $1 + 1$ $14 + 1$ $9 - 1$ $13 - 1$
 $2 + 1$ $12 + 1$ $8 - 1$ $15 - 1$

Чым падобныя і чым адрозніваюцца прыклады ў кожным слупку?

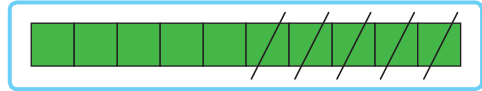




4. У садзе было 10 . Пасадзілі яшчэ 7 .
Колькі  стала ў садзе?

5. Складзі пытанне. Рашы задачу.
У Вані ёсць 17 малюнкаў.
На выставу ўзялі 10 малюнкаў.

6. Складзі задачы.





7. Хто зробіць больш крокаў?



? Назаві лікі.



Было 16 . Паляцела 1 .
Колькі качак засталася?