





# Урок 73

Было 3 лялькі, а машынак — на 2 больш.  
Колькі было машынак?



$$3 + 2 = 5$$

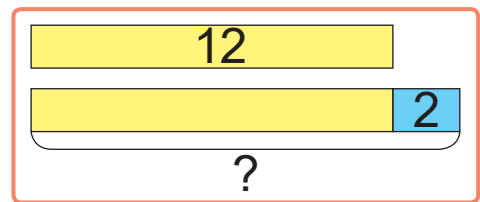
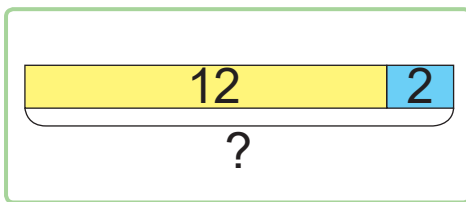
- Машынак столькі ж, колькі лялек, і яшчэ 2. Значыць, для рашэння задачы трэба да 3 дадаць 2.



1. Выберы схему. Рашы задачу.  
Паша пабудоваў вежу з кубікаў.

Ён узяў 12 , а  — на 2 больш.

Колькі  узяў Паша?



2. Састаў і рашы прыклады.

- 9 павялічылі на 1, вынік павялічылі на 10.
- 17 паменшылі на 2, вынік паменшылі на 5.
- Ад 20 аднялі 10, ад выніку аднялі 10.



3.  $9 - 2$  ?  $5 + 2$

$14 - 1$  ?  $12 - 1$

$\geq$   $6 - 1$  ?  $4 - 1$

$17 - 2$  ?  $18 - 2$

4. Састаў прыклады па ўзоры. Вылічы.

$17 + ? = 19$

$16 + ? = 18$

$15 + ? = 17$

$14 + ? = 16$

$17 + 2 = 19$


Як змяняліся складаемыя?

Як змянялася сума?


Які можа быць наступны прыклад?



5. Дзе Ваня? Дзе яго адлюстраванне ў люстэрку?



? Складзі задачу па схеме.



У двары было 5 , а потым іх стала на 2 больш. Колькі  стала?