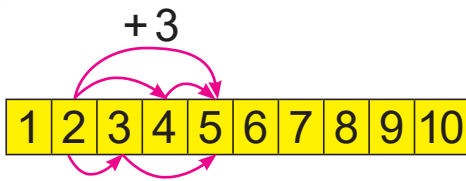




# Урок 75

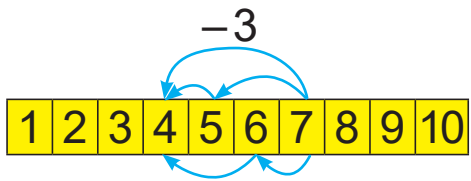


$$2 + 3 = ?$$


---


$$2 + 2 + 1$$

$$2 + 1 + 2$$



$$7 - 3 = ?$$


---


$$7 - 2 - 1$$

$$7 - 1 - 2$$

1. Разгледзь табліцу. Растлумач вылічэнні.

+ 3	1	2	3	4	5	6	7	- 3
	4	5	6	7	8	9	10	

2. Прачытай прыклады. Вылічы.

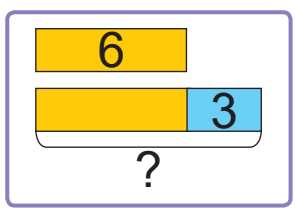
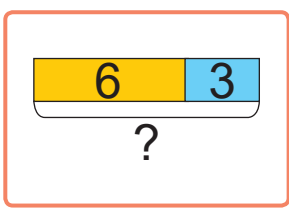
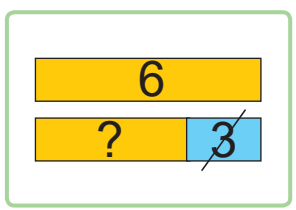
$8 - 1 - 1$	$6 + 1 + 1$	$10 - 1 - 1$
$8 - 2 - 1$	$6 + 2 + 1$	$10 - 1 - 2$
$8 - 2 - 2$	$6 + 2 + 2$	$10 - 2 - 2$

Чым падобныя і чым адрозніваюцца прыклады ў кожным слупку?



3. Выберы схему. Рашы задачу.

На спектакль купілі 6 білетаў для дзяцей, а для дарослых — на 3 білеты больш. Колькі купілі білетаў для дарослых?





4. Параўнай і рашы задачы.
- У адным радзе 18 месцаў. Дзеці занялі 10 месцаў. Колькі месцаў засталася?
  - У адным радзе дзеці занялі 18 месцаў, а ў другім — на 10 месцаў менш. Колькі месцаў занялі ў другім радзе?
5. У паркінгах А, Б, В і Г была аднолькавая колькасць машын. У табліцы паказана, колькі машын паехала з кожнага паркінга.



Паркінг	А	Б	В	Г
Паехала машын	2	10	6	15



Алесь кажа:

З паркінгаў А і Г машын паехала больш, чым з паркінгаў Б і В.

Яна кажа:

Больш за ўсё машын засталася ў паркінгу Г.



Чыя праўда?



Павяліч на 3. Паменшы на 3.

3

5

7

10



Дапоўні ў сшытку табліцы складання і аднімання з лікам 3. Запомні.

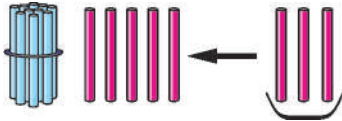


# Урок 76

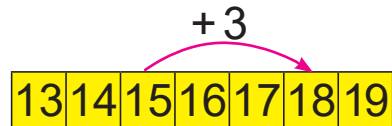
Растлумач вылічэнні.

		1	5	+	3	=	?		

Спосаб 1



Спосаб 2



1. Вылічы. Растлумач.

$11 + 3$

$16 + 3$

$13 + 3$

$12 + 3$

$19 - 3$

$15 - 3$

$16 - 3$

$14 - 3$

2. Выберы прыклады.

- Лік 6 павялічылі на 3.
- Лік 8 паменшылі на 3.
- Да 12 дадалі 2.
- Ад 16 аднялі 2.
- Сума лікаў 16 і 2.

$8 - 3$

$16 - 2$

$12 + 2$

$6 + 3$

$16 + 2$

3. Вылічы.

$5 + 2 + 2$


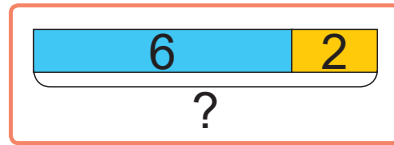
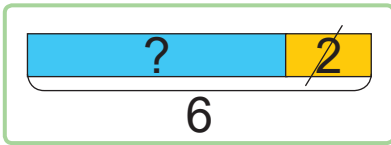
$8 - 2 - 2$

$0 + 2 + 2$

4. Трэба пасадзіць 9 кустоў маліны. Ужо пасадзілі 3 кусты. Колькі кустоў маліны засталася пасадзіць?




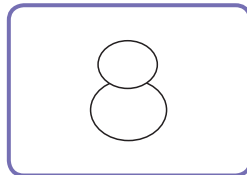



5. Выберы схему. Рашы задачу.  
Каб зрабіць мадэль самалёта, Юра вы-  
разаў 6 дэталаў з кардону. Потым ён  
выразаў яшчэ 2 дэталаў з паперы. Колькі  
дэталаў выразаў Юра?



6. У камандзе гуляюць спартсмены пад ну-  
марамі ад 3 да 16. Колькі спартсменаў  
у камандзе?

7. Што спачатку? Што потым?



- ? Павяліч на 3. Паменшы на 3.

13

14

10

16



У Пеці 12 наклеек, а ў Віці на 1 наклеюку  
больш. Колькі наклеек у Віці?