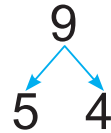




# Урок 88

Растлумач вылічэнні.

$$9 - 5 = ?$$



$$9 - 5 = 4$$

- Ад 9 адняць 5, атрымаецца 4.



## 1. Разгледзь табліцы.

Растлумач вылічэнні.

- 5	6	7	8	9	10
	1	2	3	4	5

- 6	7	8	9	10
	1	2	3	4

## 2. Састаў і рашы прыклады.

- Памяншаемае — 8, аднімаемае — 5.
- Ад сямі адняць шэсць.
- Дзесяць паменшыць на пяць.

3.  $10 - 5$  ?  $3 + 4$

$4 + 4$  ?  $9 - 6$











$8 - 5$  ?  $6 - 3$

$1 + 6$  ?  $10 - 6$



4. Параўнай задачы.

- У Машы было 12  .  
Яна дала 2  сваёй сястры.  
Колькі  засталася ў Машы?
- У Машы было 12  .  
Колькі  засталася ў Машы,  
калі яна дала 2  сваёй сястры?

5. Дзеці сабралі 2 шклянкі  і 5 шклянак .

Колькі шклянак ягад сабралі дзеці?

6. Выберы схему.

Косця вышэйшы за Пеця, але ніжэйшы за Віця.



? Паменшы на 5. Паменшы на 6.

10

7

9

8

6



Дапоўні ў сшытку тэблицы аднімання з лікамі 5 і 6. Запомні.