




# Урок 92

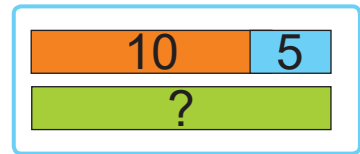

Узялі 2 памідоры і 1 агурок, а перцаў — столькі, колькі памідораў і агуркоў разам. Колькі перцаў узялі?



- Перцаў столькі, колькі памідораў і агуркоў разам. Значыць, для рашэння задачы трэба да 2 дадаць 1.



1. Было 10 трактароў і 5 камбайнаў, а сеялак — столькі, колькі трактароў і камбайнаў разам. Колькі было сеялак?



2. ведае столькі англійскіх слоў, колькі беларускіх. Колькі ўсяго слоў ведае , калі беларускіх слоў ён ведае 5?

3. Вылічы.

$5 + 4 - 6$

$2 + 7 - 5$

$14 + 6 + 0$

$6 + 3 - 7$

$3 + 5 - 7$

$17 - 6 - 1$

4. Састаў прыклады. Вылічы.

$19 - 6$

$12 + 8$

$20 - 7$

$?\ + 7$

$?\ - 4$

$?\ + 6$

$?$

$?$

$?$



5.  $15 \text{ г} + 2 \text{ г} ? 15 \text{ г} + 3 \text{ г}$   
 $\geq$   $3 \text{ г} + 13 \text{ г} ? 19 \text{ г} - 1 \text{ г}$   
 $10 \text{ г} + 10 \text{ г} ? 14 \text{ г} + 6 \text{ г}$   
 $18 \text{ г} - 5 \text{ г} ? 18 \text{ г} - 6 \text{ г}$

У якіх выпадках можна выканаць параўнанне без вылічэнняў?



6. Дапоўні ўмову данымі табліцы.  
 Рашы задачу.

У Грышы  $?$  падручнікаў і  $?$  бланкатаў.  
 Колькі ў Грышы падручнікаў і бланкатаў разам?

|   |   |   |  |
|---|---|---|--|
|  |  |  |  |
| 12  | 5   | 8   | 14   |

7. Кожнаму вучню раздалі камплект, у якім 1 сшытак і 2 алоўкі. Колькі вучняў атрымалі камплекты, калі было 6 сшыткаў і 9 алоўкаў?



? Складзі па схеме задачу.



Запішы ў парадку павелічэння.

1 дзяс. 6 адз. 1 дзяс. 2 дзяс. 1 дзяс. 1 адз.