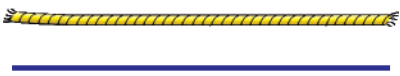






Урок 94




Прамая лінія.



Пункт на прамой лініі.



Два пункты на прамой лініі.




Адрэзак.

1. Параўнай малюнкі. Чым яны падобныя? Чым адрозніваюцца?



2. Колькі прамых? Колькі адрэзкаў?



3. $14 - 3$? $14 + 3$ $5 + 2 + 1$? $5 + 1 + 1$
 \geq $10 + 2$? $15 - 3$ $10 - 1 - 1$? $10 - 2 - 1$

У якіх выпадках можна выканаць параўнанне без вылічэнняў?



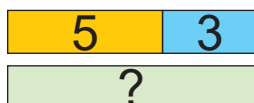
4. На вуліцы Кляновай 20 дамоў, а на вуліцы Рабінавай на 8 дамоў менш. Колькі дамоў на вуліцы Рабінавай?



5. Дапоўні тэкст задачы па схеме.

Рашы задачу.

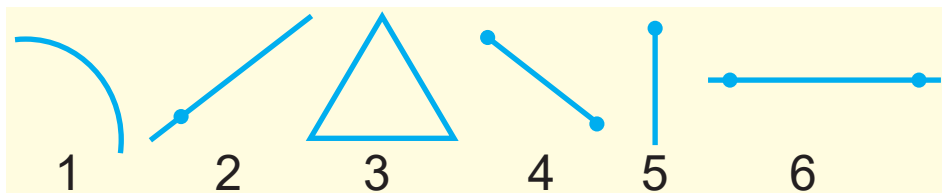
Злавілі ? яршоў і ? акунёў. Карасёў злавілі столькі, колькі яршоў і акунёў разам. Колькі карасёў злавілі?



6. Састаў прыклады. Вылічы.

- Ад 15 адняць 5, ад атрыманага выніку адняць 4.
- Ад 20 адняць 3, атрыманы вынік паменшыць на 1.
- Да 0 дадаць 7, да атрыманага выніку дадаць 10.
- Да 12 дадаць 4, атрыманы вынік павялічыць на 0.

? Ці правільна, што фігура 4 — адрэзак?
Фігура 1 — прамаея?



$$\begin{array}{l}
 10 \text{ г} + 4 \text{ г} \text{ ? } 11 \text{ г} + 5 \text{ г} \\
 3 \text{ г} + 14 \text{ г} \text{ ? } 2 \text{ г} + 15 \text{ г}
 \end{array}$$