



# Урок 97

Даўжыню чырвонай палоскі  
вымералі рознымі меркамі.  
Колькі спатрэбілася жоўтых мерак?  
Сініх мерак?

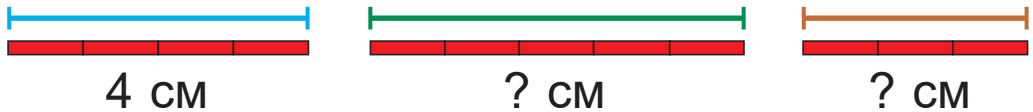


1 см



Сантыметр — адзінка даўжыні.

1. Колькі мерак даўжынёй 1 см у кожным адрэзку?



2.  $5 + 4$  ?  $7 - 1$                        $20 - 4$  ?  $10 + 7$   
 $\approx$   $2 + 15$  ?  $15 + 2$                        $9 - 6$  ?  $6 + 3$   
 $14 + 4$  ?  $20 - 2$                                $19 - 8$  ?  $19 - 10$




3. Сума трох лікаў на кожнай палосцы роўная 20. Знайдзі прапушчаныя лікі.




У якім выпадку можна выканаць заданне рознымі спосабамі?








4. Каля школы на стаянцы злева было 12 , а на стаянцы справа — 7 . Колькі ўсяго  было?

5. Складзі і рашы задачы.

Было — 14 .  
Прадалі — 3 .  
Засталося — ?

 — 14.  
 — ?, на 3 менш.

6. Алесь і Яна параўналі даўжыні стужак.



Жоўтая стужка даўжэйшая за сінюю стужку і карацейшая за чырвоную стужку.

Зялёная стужка даўжэйшая за сінюю стужку і карацейшая за жоўтую стужку.



Чыя праўда?

? Вазьмі мерку даўжынёй 1 см і знайдзі на малюнках тасьму даўжынёй 3 см.



$$20 - 7 - 10$$

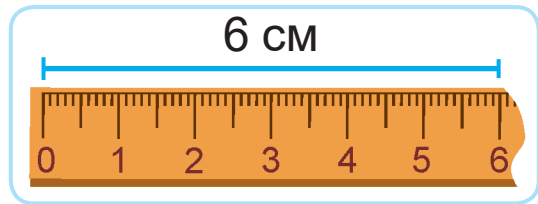
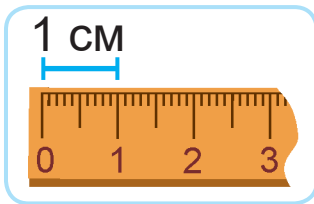
$$10 + 4 + 6$$



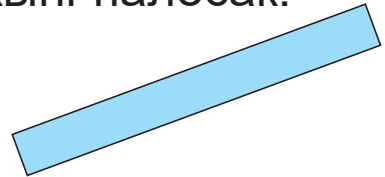
# Урок 98



Гэта лінейка.



1. Вымерай лінейкай даўжыні палосак.



2. Вылічы па ўзоры.

$$6 \text{ см} + 2 \text{ см} = 8 \text{ см}$$

$$7 \text{ см} - 3 \text{ см} = 4 \text{ см}$$

$$12 \text{ см} + 3 \text{ см}$$

$$16 \text{ см} - 10 \text{ см}$$

$$1 \text{ см} + 19 \text{ см}$$

$$17 \text{ см} - 5 \text{ см}$$

3. Вылічы.

$$13 - 13 + 8$$

$$2 + 5 - 2$$

$$18 - 4 - 4$$

$$4 + 15 - 10$$

$$10 + 6 - 10$$

$$12 + 4 + 4$$

4. Састаў і рашы прыклады.









5. На клумбе было 10  і 7 , а  —  
столькі, колькі  і  разам.  
Колькі было  ?

6. Дапоўні задачы данымі з табліцы.  
Рашы задачы.

- Даўжыня сцябла ў рамонка ? см,  
а ў званочка — на 3 см большая.  
Знайдзі вышыню сцябла ў званочка.
- Даўжыня сцябла ў васілька ? см.  
Знайдзі даўжыню сцябла ў фіялкі,  
калі яна на 10 см меншая.

			
12 см	18 см	17 см	9 см

? Здагадайся, даўжыня якога з адрэзкаў  
роўная 10 см. Правяр з дапамогай лінейкі.



Вымерай даўжыні адрэзкаў.  
Састаў запісы па ўзоры.

  $4 \text{ см} + 2 \text{ см} = 6 \text{ см}$