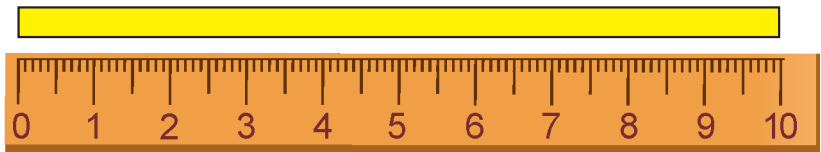




Урок 102



Даўжыня гэтай меркі — 1 дэцыметр (1 дм).
Дэцыметр — адзінка даўжыні.

1 дм = 10 см

- Адзін дэцыметр роўны дзесяці сантыметрам.



1. Які адрэзак мае даўжыню 1 дм?



2. 10 см ? 1 дм 1 дм ? 20 см
 ⩾= 1 дм ? 6 см 1 дм ? 1 см
 10 см + 10 см ? 2 дм
 3 см + 7 см ? 1 дм

3. Знайдзі прапушчаныя лікі.
Састаў рознасці.

Памяншаемае	20	19	?	?	16
Аднімаемае	4	3	2	1	0
Рознасць	?	?	16	16	?

Як змяняліся памяншаемае і аднімаемае ў радках табліцы?





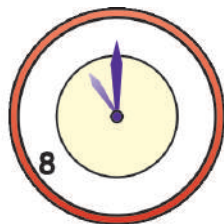



4. Растлумач запісы.

Дзеці зрабілі 10 закладак для кніг і столькі ж паштовак. На конкурс выбралі 3 паштоўкі.

$$10 + 10$$

$$10 - 3$$

5. На казачных гадзінніках некаторыя лічбы сталі невідзімкамі. Колькі часу паказваюць казачныя гадзіннікі?



6. Паліне 3 гады, а яе брату Колю 7 гадоў. Колькі гадоў споўніцца Паліне, калі Колю будзе 10 гадоў?



? Знайдзі даўжыню адрэзка.



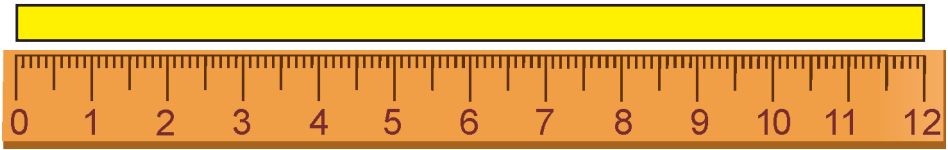
На колькі сантыметраў трэба павялічыць гэты адрэзак, каб яго даўжыня стала роўнай 1 дм?



Начарці адрэзак даўжынёй 1 дм.
Начарці другі адрэзак, даўжыня якога на 5 см меншая.



Урок 103



- Даўжыня палоскі — 12 см.
Гэта 1 дм 2 см. $12 \text{ см} = 1 \text{ дм } 2 \text{ см}$



1. Колькі сантыметраў?

- 1 дм 4 см 1 дм 8 см 1 дм 1 см 2 дм

2. Колькі дэцыметраў і сантыметраў?

- 16 см 12 см 14 см 19 см

3. Вылічы.

$15 \text{ см} - 4 \text{ см}$

$5 \text{ дм} + 15 \text{ дм}$


$18 \text{ см} - 1 \text{ см}$

$6 \text{ дм} + 12 \text{ дм}$

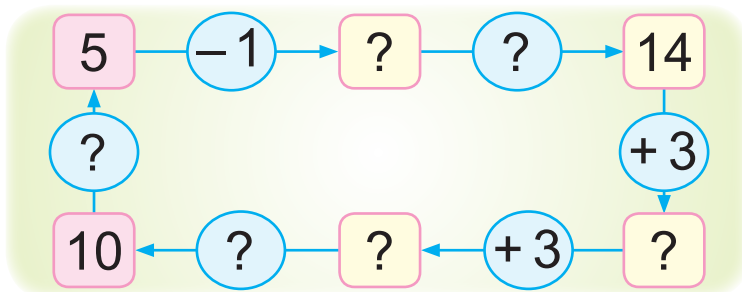
$1 \text{ дм } 2 \text{ см} + 5 \text{ см}$

$1 \text{ дм } 8 \text{ см} - 1 \text{ дм}$

4. Знайдзі даўжыню першага адрэзка. Ці правільна, што даўжыня другога адрэзка на 1 дм большая?

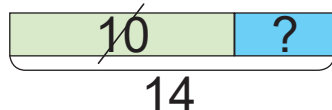


5. Састаў прыклады.

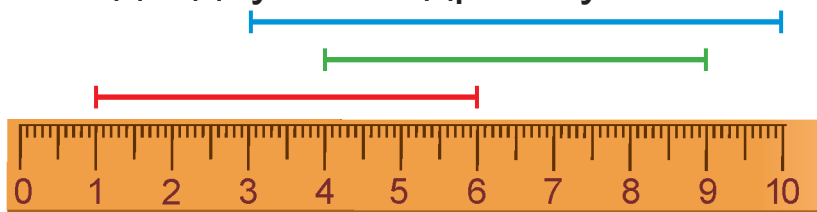




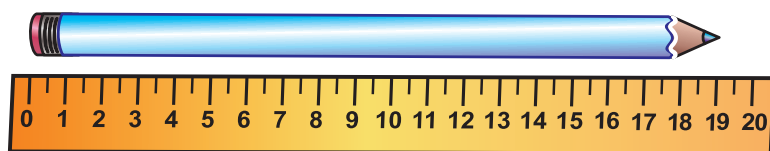
6. Параўнай і рашы задачы.
- Зіне 13 гадоў. Яе брат Віця на 2 гады маладзейшы за Зіну. Колькі гадоў Віцю?
 - Зіне 13 гадоў. Яе сястра Вольга на 2 гады старэйшая за Зіну. Колькі гадоў Вользе?
7. Дапоўні ўмову задачы данымі схемы. Складзі пытанне. Рашы задачу. Дзеці прыехалі ў госці да бабулі з дзядулем на ? дзён. Ужо прайшло ? дзён. Колькі ...?



8. Знайдзі даўжыні адрэзкаў.



- ? Ці правільна, што даўжыня алоўка — 1 дм 9 см?



Начарці адрэзак даўжынёй 1 дм 2 см.