



Урок 107



У які збан можна наліць больш вады?



Для вымярэння ёмістасці пасудзіны выкарыстоўваюць мерку — літр.



Літр — адзінка ёмістасці.

1. У  было 10 л вады. Для паліву кветак Марына ўзяла 6 л вады. Колькі літраў вады засталася ў  ?
2. Ёмістасць першага акварыума — 10 л, а другога — на 8 л больш. Якая ёмістасць другога акварыума?
3. 14 л ? 16 л 16 л – 4 л ? 17 л – 4 л
 \geq 3 л ? 1 л 2 л + 6 л ? 3 л + 5 л
4. Вызнач масу бочачкі з мёдам і слоіка з варэннем.





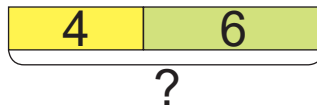
5. Знайдзі прапушчаныя лікі.
Састаў сумы.

Складаемае	11	?	?	14	15
Складаемае	7	6	5	4	3
Сума	?	18	18	?	?

Як змяняліся складаемыя ў радках табліцы?



6. Складзі і рашы задачу пра  і .



7. Кірылу 10 гадоў. Колькі гадоў яго сястры Ніне, калі яна на 4 гады старэйшая?

8. У дзядулі ёсць 2 вядры. У першым вядры змяшчаецца 8 л вады, у другім — 3 л вады. Як з дапамогай гэтых вёдзер дзядуля можа адмераць 2 л вады?



? Закончы сказ:
«Адзінка ёмістасці пасудзіны — ...».



Якія знакі дзеянняў схаваны за  ?

$$11 = 8 \text{  } 2 \text{  } 1$$

$$9 = 8 \text{  } 2 \text{  } 1$$