



Урок 61



восемнадцать



Десяток	Единицы
	
1	8

$10 + 8 =$?
$18 - 8 =$?
$18 - 10 =$?

1. $10 + 8$ $18 - 10$ $0 + 18$ $18 - 8$
 $17 + 1$ $18 - 0$ $10 + 3$ $11 - 10$
 $18 - 1$ $10 + 7$ $15 - 5$ $14 - 4$

2. $5 \text{ ч} + 1 \text{ ч}$ $8 \text{ ч} - 1 \text{ ч}$ $7 \text{ ч} + 1 \text{ ч}$
 $6 \text{ ч} + 1 \text{ ч}$ $7 \text{ ч} - 1 \text{ ч}$ $8 \text{ ч} + 1 \text{ ч}$

Чем похожи и чем отличаются
 примеры в каждом столбике?






3. В классе было 17 учеников.
 Вошёл ещё 1 ученик.
 Сколько учеников стало в классе?



4. Выбери число, которым можно дополнить условие задачи. Реши задачу.

Было ?  . Улетело 3  .
 Сколько  осталось?

1
2 5

5. В букете у мамы 5  .
 В букете у бабушки столько же  .
 Сколько всего  у мамы и бабушки?

6. Как зовут девочку?




В	$3 + 4$	К	$6 - 2$	С	$18 - 1$
Б	$10 + 4$	Е	$10 - 1$	А	$10 + 3$
О	$18 + 0$	Р	$7 - 2$	Т	$6 + 2$



17	7	9	8	13
?	?	?	?	?

? Назови числа.



Составь четыре примера с ответом 10.