




# Урок 74




Было 5 скакалок, а обручей — на 2 меньше. Сколько было обручей?

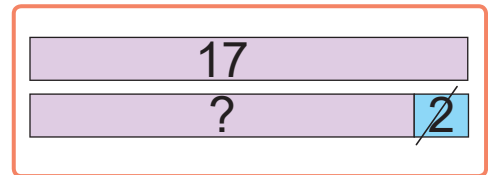
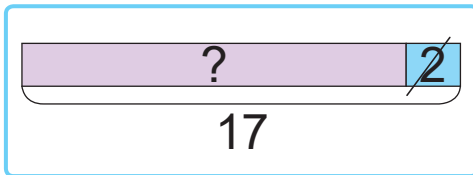


$$5 - 2 = 3$$

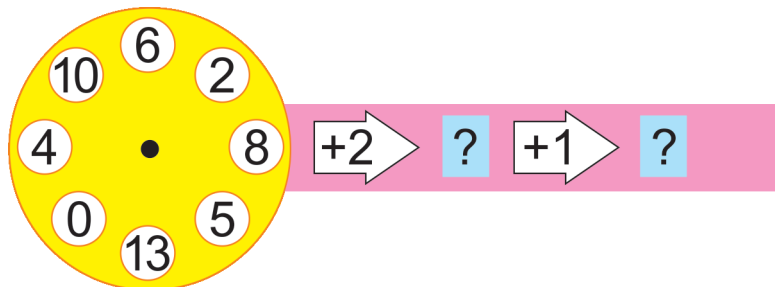
- Обручей столько же, сколько скакалок, но без 2. Значит, для решения задачи нужно из 5 вычесть 2.



1. Выбери схему. Реши задачу.  
 Для занятий спортом купили 17 ,  
 а  — на 2 меньше.  
 Сколько  купили?



2. Составь и реши примеры.





3. Выбери примеры.

- К 14 прибавить 2, получится ?.
- Сумма чисел 10 и 10 равна ?.
- 13 увеличить на 2, получится ?.
- Слагаемые — 19 и 0, сумма — ?.

$14 + 2$

$13 + 2$

$19 + 0$

$10 + 10$

4. Вычисли.

$6 - 1$

$7 + 1$

$16 - 2$

$11 + 1$

$9 - 1$

$4 + 2$

$15 - 1$

$12 + 2$

$3 - 2$


$7 + 2$

$14 - 1$


$13 + 2$

5. Девочки играют в мяч.

Как зовут каждую девочку?



Это — Ира и Валя.



Это — Таня и Ира.



? Составь задачу по схеме.

15

?

2



Было 8 , а потом их стало на 2 меньше.  
Сколько  стало?