

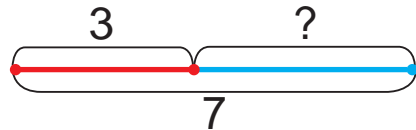


# Урок 28

В кормушке было 3 синицы.  
 Прилетело несколько соек.  
 Стало 7 птиц. Сколько соек  
 прилетело?

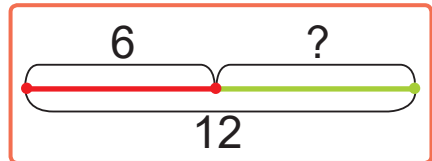
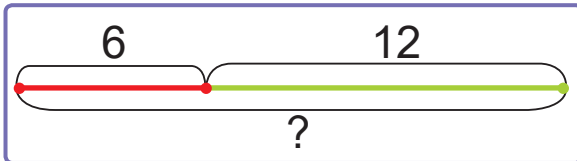


Было — 3 синицы.  
 Прилетело — ?  
 Стало — 7 птиц.



1. Выбери схему. Реши задачу.

На столе было 6 чашек. Мама поставила ещё несколько чашек. Стало 12 чашек. Сколько чашек мама поставила на стол?



2. Найди пропущенные числа.

Составь разности. Прочитай примеры.

Уменьшаемое	15	18	?	14	11	20
Вычитаемое	?	9	4	9	?	9
Разность	8	?	7	?	2	?

3. Вставь пропущенные знаки действий «+» или «-», чтобы записи были верными.

$12 \square 2 \square 1 = 9$

$3 \square 3 \square 1 = 7$

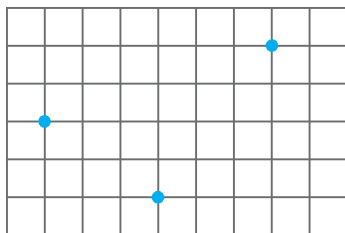
$14 \square 2 \square 2 = 10$

$6 \square 4 \square 5 = 5$



4. Когда посадили 7 кустов смородины, стало 20 кустов. Сколько кустов смородины было?
5. В одну лодку могут сесть 4 человека, а в другую — 9 человек. Могут ли в этих лодках разместиться 14 человек?

6. Поставь в тетради точки так, как на рисунке. Проведи три прямые так, чтобы на каждой прямой было по 2 точки.



7. Егор, Саша и Андрей нашли 12 грибов. Егор и Саша нашли 9 грибов. Саша и Андрей — 8 грибов. Сколько грибов нашёл каждый мальчик?



- ? Составь задачу. Объясни её решение.



1. Вставь пропущенные числа, чтобы записи были верными.

$$9 + ? = 18$$

$$7 + ? = 16$$

$$? + 7 = 15$$

$$? + 9 = 13$$

2. Было 5 цыплят. Потом вылупилось ещё несколько цыплят. Стало 20 цыплят. Сколько цыплят вылупилось?