





Урок 12


Объясни вычисления.



$8 + 3 = ?$



$11 - 3 = ?$



$3 + 8 = ?$

$11 - 8 = ?$

$8 + 3 = 11$

$9 + 3 = 12$

$3 + 8 = 11$

$3 + 9 = 12$

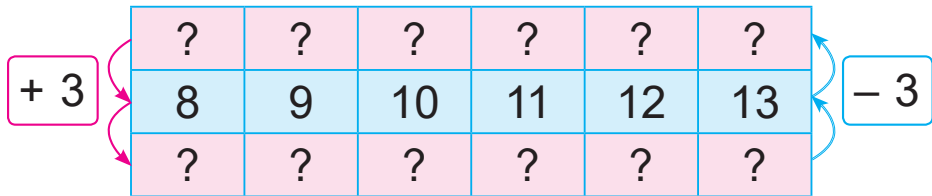
$11 - 3 = 8$

$12 - 3 = 9$

$11 - 8 = 3$

$12 - 9 = 3$

1. Найди пропущенные числа. Составь примеры на сложение и вычитание.

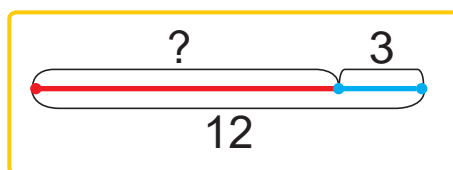
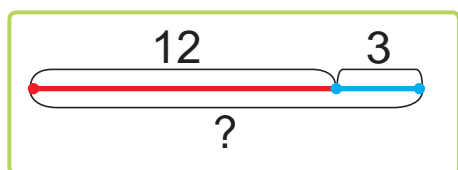


2. Масса гуся — 7 кг, а масса петуха — на 3 кг меньше. Какова масса петуха?
3. Хватит ли 18 л бензина для того, чтобы сделать две поездки на машине, если на первую поездку нужно 3 л бензина, а на вторую — 9 л?



4. Выбери схему. Реши задачу.

Утром Лена выучила 12 английских слов, а к вечеру забыла 3 слова. Сколько слов смогла запомнить Лена?



5. Сколько часов прошло?



6. Вставь пропущенные числа, чтобы записи были верными.

$$3 + 5 + \boxed{?} = 10$$

$$1 + 6 + \boxed{?} = 10$$

$$18 - 6 - \boxed{?} = 10$$

$$20 - 7 - \boxed{?} = 10$$

? Объясни вычисления: $3 + 9$, $12 - 3$, $12 - 9$.

1. Вычисли.

$$3 + 8$$

$$11 - 2$$

$$9 + 3$$

$$11 - 8$$

2. Для двух букетов срезали 5 лилий и столько же роз. Сколько всего цветов срезали?