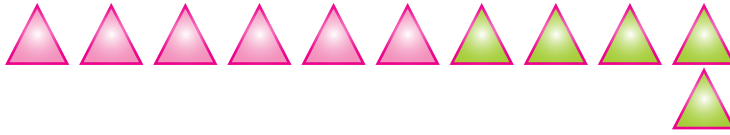





Урок 17


Объясни вычисления.



$$6 + 5 = ?$$



$$11 - 5 = ?$$



$$5 + 6 = ?$$

$$11 - 6 = ?$$

$$6 + 5 = 11$$

$$7 + 5 = 12$$

$$8 + 5 = 13$$

$$9 + 5 = 14$$

$$5 + 6 = 11$$

$$5 + 7 = 12$$

$$5 + 8 = 13$$

$$5 + 9 = 14$$

$$11 - 5 = 6$$

$$12 - 5 = 7$$

$$13 - 5 = 8$$

$$14 - 5 = 9$$

$$11 - 6 = 5$$

$$12 - 7 = 5$$

$$13 - 8 = 5$$

$$14 - 9 = 5$$

1. Вычисли.

$$12 - 5$$

$$13 - 8$$

$$5 + 6$$

$$9 + 5$$

$$5 + 7$$

$$8 + 5$$

$$11 - 6$$

$$14 - 9$$

2. Сравни.

$$3 \text{ кг } ? 8 \text{ кг}$$

$$6 \text{ см} - 5 \text{ см } ? 12 \text{ см} - 1 \text{ дм}$$

$$12 \text{ л } ? 2 \text{ л}$$

$$13 \text{ см} - 4 \text{ см } ? 11 \text{ см} - 3 \text{ см}$$

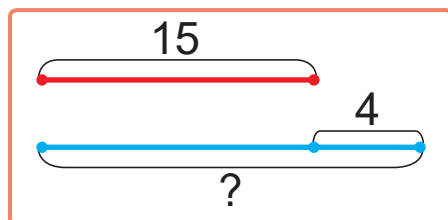
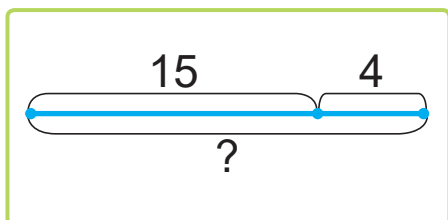
3. Нужно распечатать на принтере 20 страниц текста. Уже распечатали 8 страниц. Сколько страниц осталось распечатать?

4. Продали 5 кг пряников, а потом — ещё 9 кг пряников. Какова масса проданных пряников?


5. У Васи 3 брата и 2 сестры. Сколько всего мальчиков в семье?




6. Выбери схему. Реши задачу.
В буфете 15 чашек, а блюд — на 4 больше.
Сколько блюд в буфете?




7. Яна сфотографировала дом. Под каким номером может быть фотография этого дома?




1



2



3



Алесь говорит:

Фотография дома — под номером 3.

Прав ли Алесь?



Объясни вычисления: $5 + 8$, $13 - 5$, $13 - 8$.

1. Вычисли.

$14 - 5$

$5 + 9$

$5 + 7$

$12 - 7$

2. У Игната 11 моделей кораблей, а моделей машин — на 5 меньше. Сколько моделей машин у Игната?



Урок 18

1. Дополни до десяти числа: 4, 3, 8, 1, 2, 6.
Запиши примеры.

2. Запиши суммы. Вычисли.

Слагаемое	5	5	5	5	4	4
Слагаемое	6	7	8	9	8	9

3. Запиши разности. Вычисли.

Уменьшаемое	11	12	12	13	13	14
Вычитаемое	6	5	7	5	8	5

4. Уменьши каждое число на 3, на 4, на 5.
Запиши примеры с вычитаемым 5.

10

11

8

13

9

12

5. Сравни.

$18 \text{ ? } 20$

$12 \text{ ? } 16$

$7 + 5 \text{ ? } 5 + 7$

$8 \text{ ? } 18$

$10 \text{ ? } 0$

$11 - 4 \text{ ? } 11 - 5$

6. Измерь длину отрезка. Начерти такой же отрезок. Начерти отрезок на 5 см короче.





7. В оркестре 6 труб, 3 флейты, а скрипок столько, сколько труб и флейт вместе. Сколько скрипок в оркестре?
8. Выбери вопрос и реши задачу.
На аэродроме было 12 самолётов. Улетело 3 самолёта.
- Сколько самолётов прилетело?
 - Сколько самолётов осталось?

9. Андрей забил 4 гола. Это на 8 голов меньше, чем забил Паша. Сколько голов забил Паша?

10. Андрей говорит Паше:



— Завтра я забью столько голов, сколько ты сегодня, да ещё половину того, что я забил сегодня. Всего у меня будет 20 голов. Не ошибся ли Андрей в подсчётах?



1. Вычисли.

$11 - 5$

$5 + 6$

$4 + 9$

$13 - 9$

2. Для салата взяли 6 перцев. Это на 5 меньше, чем помидоров. Сколько помидоров взяли для салата?