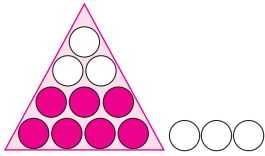


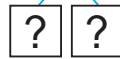


Урок 19

Объясни вычисления.




$7 + 6 = ?$



$6 + 7 = ?$

$13 - 6 = ?$



$13 - 7 = ?$

$6 + 6 = 12$

$7 + 6 = 13$

$8 + 6 = 14$

$9 + 6 = 15$

$6 + 7 = 13$

$6 + 8 = 14$

$6 + 9 = 15$

$12 - 6 = 6$

$13 - 6 = 7$

$14 - 6 = 8$

$15 - 6 = 9$

$13 - 7 = 6$

$14 - 8 = 6$

$15 - 9 = 6$

1. Составь и реши примеры.



2. Составь примеры на сложение и вычитание.



3. Вычисли.

$9 + 6 + 4$

$14 - 6 + 1$

$12 - 6 - 5$

$9 + 5 + 3$

$14 - 5 + 2$

$13 - 6 - 4$

$9 + 4 + 2$

$14 - 4 + 3$

$14 - 6 - 3$

Каким может быть следующий пример в каждом столбике?





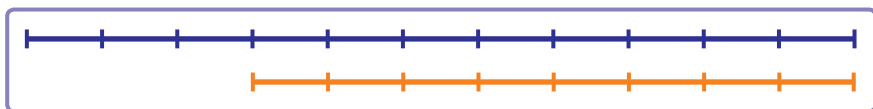
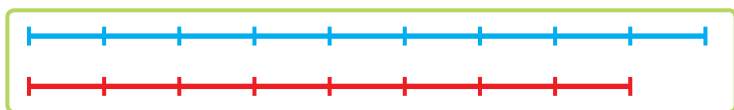
4. Сравни задачи.

- У Веры 6 кукол. У Алеси столько же кукол. Сколько всего кукол у девочек?
- У Веры 6 кукол. У Алеси столько же кукол. Определи количество кукол у девочек.

5. Алесь прыгнул в длину на 11 дм. Это на 3 дм больше, чем прыгнула Яна. На сколько дециметров в длину прыгнула Яна?



- Алесь и Яна построили схемы, которые показывают длины прыжков. На этих схемах отрезок длиной 1 см обозначает отрезок длиной 1 дм.



Кто построил схему правильно?

? Объясни вычисления: $6 + 8$, $14 - 6$, $14 - 8$.

1. Вычисли.

$$6 + 9$$

$$15 - 9$$

$$7 + 6$$

$$13 - 7$$

- #### 2. Купили 12 бубликов. Бубликов купили на 3 больше, чем ватрушек. Сколько купили ватрушек?



Урок 20

1. Составь примеры по образцу.

$$7 + 6 = 13$$

$$6 + 7 = 13$$

$$13 - 6 = 7$$

$$13 - 7 = 6$$

$$9 + 6$$

$$4 + 7$$

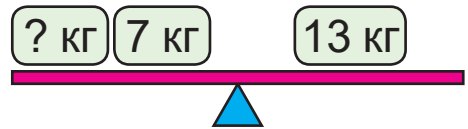
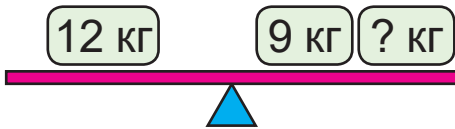
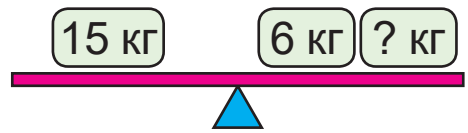
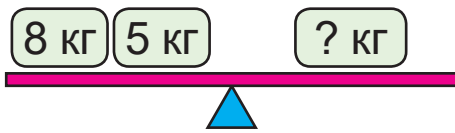
$$8 + 6$$

$$5 + 9$$

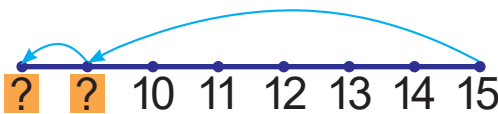
$$6 + 6$$

$$4 + 8$$

2. Составь верные записи.



3. Составь и реши примеры.



4. Вычисли.

$$4 + 9 - 7$$

$$11 - 6 + 9$$

$$13 - 4 + 3$$

$$9 + 2 - 6$$

$$12 - 3 + 6$$

$$14 - 8 + 5$$

5. Какое из трёх чисел является суммой двух других? Запиши примеры.

5 9 14

13 6 7

6 14 8

5 7 12

6. Вместимость лейки — 7 л, а ведра — на 3 л больше. Определи вместимость ведра.



7. Было 9 гвоздик. Добавили ещё 6 гвоздик. Хватит ли этих гвоздик, чтобы составить букет из 15 гвоздик?

8. Составь и реши задачи.

1 Мама — 13, на 6 ... больше.
Дочь — ?

2 Мама — 13, на 6 ... меньше.
Дочь — ?

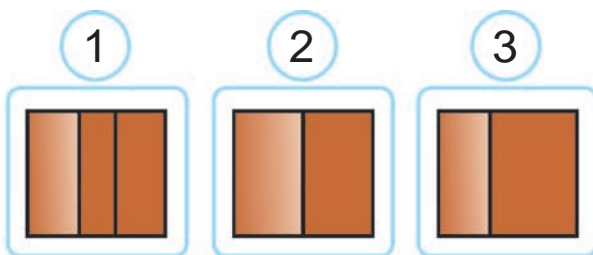


9. Начерти отрезки длиной 1 дм и 1 см. Найди сумму длин этих отрезков.

10. Дом сфотографировали сверху.



Выберите фотографию этого дома.



1. Вычисли.

$$6 + 7$$

$$9 + 6$$

$$14 - 9$$

$$13 - 8$$

2. В июне день может длиться 17 часов. Это на 10 часов больше, чем ночь. Сколько часов может длиться ночь в июне?