

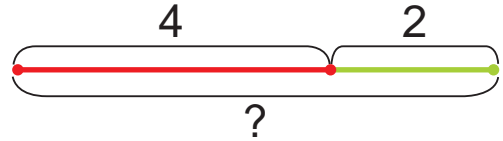


Урок 42

Алеся взяла 2 вишни.
Осталось 4 вишни.
Сколько вишен было?

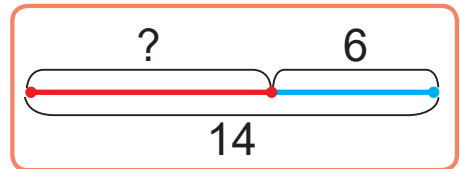
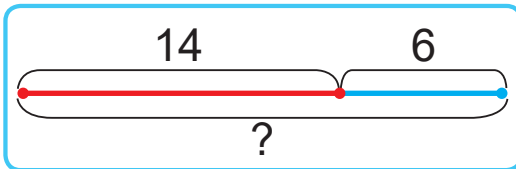


Было — ?
Взяла — 2 вишни.
Осталось — 4 вишни.



1. Выбери схему. Реши задачу.

Из коробки взяли 6 пирожных. В коробке осталось 14 пирожных. Сколько пирожных было в коробке?



2. Запиши числа.

двадцать три

тридцать два

девяносто пять

сорок четыре

шестьдесят

пятьдесят один

3. Вычисли.

$$80 + 20 - 1$$

$$50 + 3 + 1$$

$$86 - 80 + 2$$

$$90 + 9 + 1$$

$$100 - 30 - 1$$

$$100 - 90 + 3$$

4. Сравни.

$$56 + 1 \text{ ? } 56 - 1$$

$$7 + 9 - 4 \text{ ? } 5 + 8 - 2$$

$$71 - 1 \text{ ? } 69 + 1$$

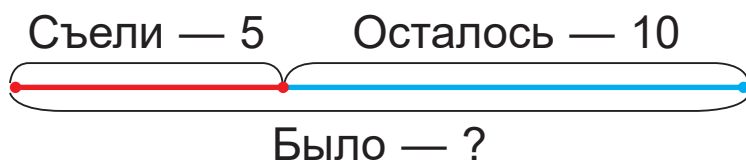
$$18 - 9 + 4 \text{ ? } 16 - 8 + 6$$



5. У Евы в телефоне 30 фотографий, что на 8 меньше, чем фотографий у Лизы. Сколько фотографий в телефоне у Лизы?
6. У мастера есть 4 десятка сосновых досок и 3 десятка еловых. Хватит ли всех этих досок мастеру, если для строительства сарая ему нужно 60 досок?
7. Составь вопрос. Реши задачу.
Витя в своём компьютере удалил 7 файлов из одной папки и 9 файлов из другой папки.
8. Сравни длины ломаных.



- ? Составь задачу. Объясни её решение.



1. Вычисли.

$92 - 2$

$76 - 70$

$4 + 50$

$99 + 1$

2. Из коробки взяли 5 кубиков. В коробке осталось 20 кубиков. Сколько кубиков было в коробке?