



## Урок 83


Объясни вычисления.

$$100 - 23 = (100 - 20) - 3 = 77$$

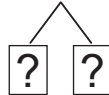
$\begin{array}{c} \diagup \quad \diagdown \\ 20 \quad 3 \end{array}$

1. Вычисли и объясни.

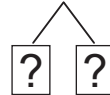
$100 - 14$



$100 - 92$



$100 - 55$



2. Вычисли.

$100 - (30 + 7)$

$100 - (74 - 8)$

$100 - (70 - 4)$

$100 - (40 + 45)$

$100 - (40 - 23)$

$100 - (49 - 4)$

3. Найди пропущенные числа.

Слагаемое	21	75	30	?	51	?
Слагаемое	?	15	?	6	49	32
Сумма	90	?	38	49	?	100

4. Сравни.

$34 + 3 \text{ ? } 50 - 13$

$60 - 21 \text{ ? } 28 + 8$

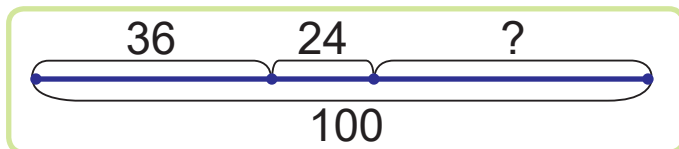
$49 + 20 + 31 \text{ ? } 35 - 12 + 77$

$14 + 16 + 22 \text{ ? } 100 - 53 + 6$

5. В коробке 100 кусочков сахара. Для чая каждый день семья берет 12 кусочков сахара. Сколько кусочков сахара останется в коробке через два дня?

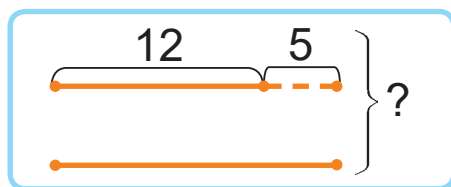


6. Составь и реши задачу.



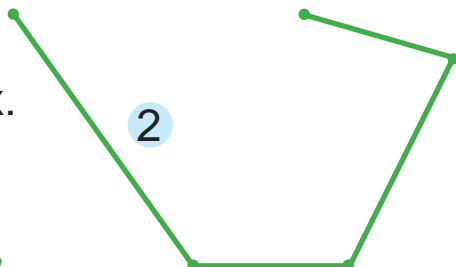

7. Дополни текст задачи данными схемы. Реши задачу.

Доминик покрасил ? м забора. Это на ? м меньше, чем покрасил Мирослав. Сколько метров забора покрасили мальчики вместе?



8. Если бы в баке было на 14 л воды больше, в нём было бы 60 л воды. Из этого бака вылили 33 л воды. Сколько литров воды осталось в баке?

9. Найди длины ломаных.



- ? Объясни, как из числа 100 вычесть число 15.

1. Вычисли.

$$100 - (21 + 37)$$

$$100 - (83 - 41)$$

2. Высота рябины — 22 м. Берёза на 5 м выше рябины. Найди высоту каштана, если он на 10 м выше берёзы.