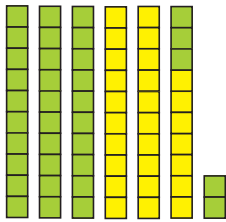




Урок 84



$$27 + 35 = (20 + 30) + (7 + 5) = ?$$

$\begin{array}{c} \diagup \quad \diagdown \\ 20 \quad 7 \\ \diagdown \quad \diagup \\ 30 \quad 5 \end{array}$



1. К числу 27 нужно прибавить число 35.
2. Сначала складываю десятки, получаю 50.
3. Потом складываю единицы, получаю 12.
4. К 50 прибавляю 12, получаю 62.

1. Вычисли и объясни.

$45 + 28$	$66 + 29$	$58 + 38$
$\begin{array}{c} \diagup \quad \diagdown \\ \boxed{?} \quad \boxed{?} \end{array}$	$\begin{array}{c} \diagup \quad \diagdown \\ \boxed{?} \quad \boxed{?} \end{array}$	$\begin{array}{c} \diagup \quad \diagdown \\ \boxed{?} \quad \boxed{?} \end{array}$

2. Вычисли.

$55 + (15 + 17)$	$23 + 24 - 15$
$70 - (18 - 13)$	$69 + 16 + 15$
$80 - (19 - 14)$	$29 + 19 - 22$

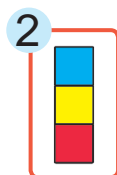
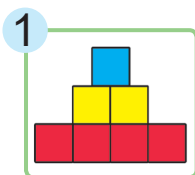
3. Сравни.

$100 \text{ кг} - 24 \text{ кг} \text{ ? } 70 \text{ кг}$
 $100 \text{ кг} - 85 \text{ кг} \text{ ? } 20 \text{ кг}$
 $54 \text{ кг} + 31 \text{ кг} \text{ ? } 45 \text{ кг} + 44 \text{ кг}$
 $66 \text{ кг} - 43 \text{ кг} \text{ ? } 20 \text{ кг} - 12 \text{ кг}$

4. Купили 2 коробки карандашей, по 12 штук в каждой, и ещё 6 карандашей. Сколько всего карандашей купили?



5. На огороде собрали 34 кг огурцов, 28 кг свёклы и помидоры. Сколько килограммов помидоров собрали, если масса всех овощей была 100 кг?
6. Аркадий на 2 года старше Алисы. Через 13 лет Аркадию будет 24 года. Сколько лет Алисе сейчас?
7. Алесь сфотографировал башню из кубиков. Какие фотографии могли получиться?



Яна говорит:

Получилась фотография 4.

Права ли Яна?



Объясни, как найти сумму чисел 48 и 25.

1. Вычисли.

$$26 + 36$$

$$35 + 29$$

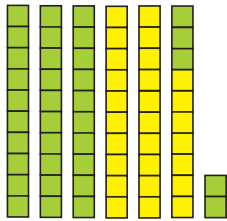
$$18 + 74$$

$$49 + 39$$

2. В телефоне у Сони было 24 фотографии друзей, у Анэли — на 18 фотографий больше, чем у Сони. У Ларисы было столько фотографий, сколько у Сони и Анэли вместе. Сколько фотографий друзей было в телефоне у Ларисы?



Урок 85



$$27 + 35 = (27 + 30) + 5 = ?$$

$\begin{array}{c} \diagup \quad \diagdown \\ 30 \quad 5 \end{array}$



1. К числу 27 нужно прибавить число 35.
2. Сначала к 27 прибавляю 30, получаю 57.
3. Потом к 57 прибавляю 5, получаю 62.

1. Вычисли и объясни.

Способ 1

$$\begin{array}{c} 46 + 27 \\ \diagup \quad \diagdown \quad \diagup \quad \diagdown \\ 40 \quad 6 \quad 20 \quad 7 \end{array}$$

Способ 2

$$\begin{array}{c} 46 + 27 \\ \quad \quad \quad \diagup \quad \diagdown \\ \quad \quad \quad 20 \quad 7 \end{array}$$

2. Вычисли двумя способами.

$59 + 35 \quad 28 + 33 \quad 44 + 39 \quad 73 + 18$

3. Сравни.

$25 + 36 \quad ? \quad 25 + 38 \quad 39 + 11 \quad ? \quad 100 - 51$

$31 + 16 \quad ? \quad 54 - 16 \quad 67 - 24 \quad ? \quad 67 - 26$

В каких случаях можно выполнить сравнение без вычислений?



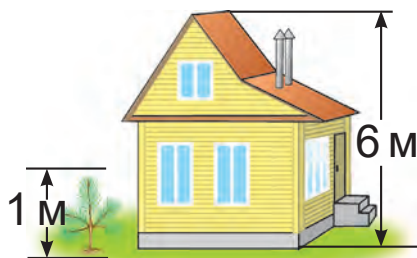
4. На соревнованиях по шашкам Федя сыграл всего 15 партий. Из них он 7 партий выиграл, 4 проиграл, а остальные партии сыграл вничью. Сколько раз Федя сыграл вничью?



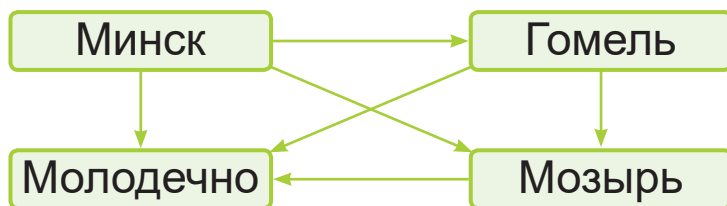
5. Составь разные вопросы к условию задачи. В пункте проката взяли 27 детских велосипедов, а взрослых — на 13 больше. Потом взяли ещё 16 взрослых велосипедов.

6. Дополни задачу данными рисунка. Реши задачу.

Папа посадил возле дома сосну высотой ? м. Высота дома — ? м. На сколько метров должна вырасти сосна, чтобы стать выше дома на 5 м?



7. Стрелка проведена от города, где больше жителей, к городу, где меньше жителей.



В каком городе меньше всего жителей?



Объясни, как найти сумму чисел 38 и 45.

1. Вычисли.

$$49 + 16 \quad 12 + 29 \quad 37 + 56 \quad 18 + 65$$

2. На стройке работали 36 рабочих. Днём пришли ещё 18 рабочих, а 5 рабочих перешли на другую стройку. Сколько рабочих осталось?