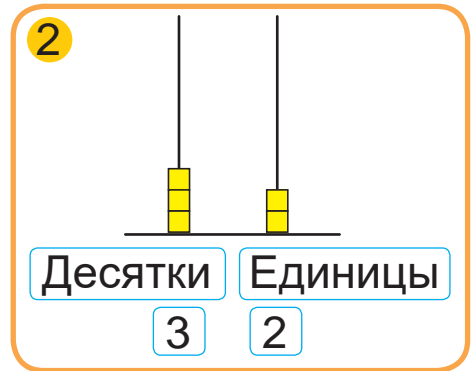
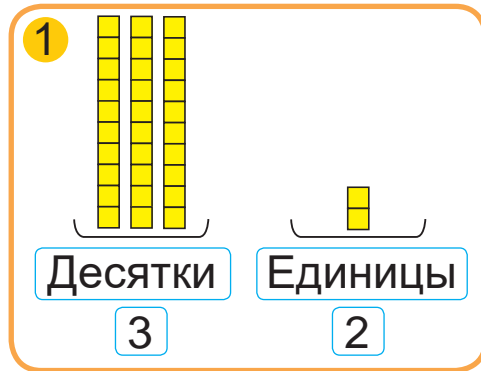




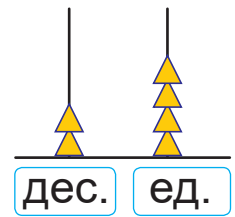
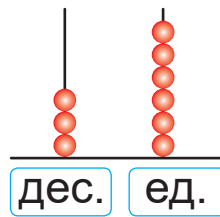
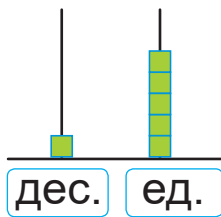
# Урок 96

Рассмотри, как показано число 32 на рисунках 1 и 2.

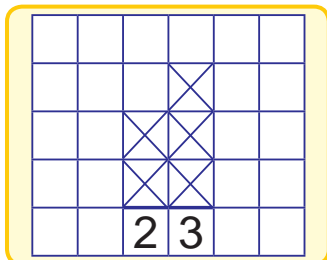
Как обозначены десятки на первом рисунке? На втором рисунке? Как обозначены единицы на каждом рисунке?



1. Запиши числа. Сколько десятков? Сколько единиц?



2. Сделай в тетради рисунки по образцу.



63

55

34

43

16

60

3. Вычисли. Выполни проверку.

$47 - 29$

$100 - 47$

$27 + 19$

$58 - 39$

$83 - 59$

$24 + 76$



4. В костюмерной театра было 29 мужских и 48 женских костюмов. Для спектакля взяли 14 костюмов. Сколько костюмов осталось в костюмерной?
5. Сравни краткие записи. Составь и реши задачи.

1 — 32 кг слив.  
2 — ?, на 15 кг слив больше.

1 — 32 кг слив.  
2 — ?, на 15 кг слив больше. } ?

6. Сколько зверей в зоопарке? Сколько зверей станет в зоопарке, если привезут ещё 17 пингвинов и 24 обезьяны?

Слоны									
Попугаи									
Зебры									
Тигры									

- ? Сколько десятков и единиц в числе?

27

30

88

1. Вычисли.

$33 - 27$

$45 - 39$

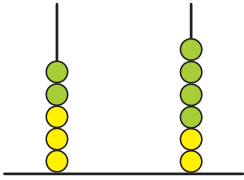
$36 + 28$

$77 + 23$

2. В магазине было 25 ящиков с помидорами и 32 ящика с огурцами. К вечеру осталось 30 ящиков с овощами. Сколько ящиков овощей было продано за день?



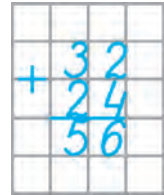
# Урок 97



$32 + 24 = ?$

Десятки    Единицы

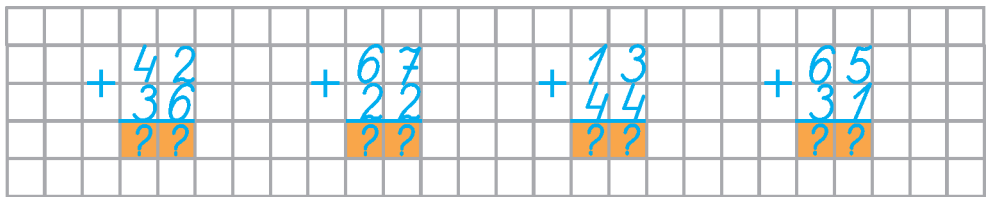
При сложении числа удобно записывать друг под другом — в столбик. При сложении в столбик вычисления начинают с единиц.



1. **Пишу** десятки под десятками, единицы под единицами.
2. **Складываю единицы.** Получаю 6. Пишу 6 под единицами.
3. **Складываю десятки.** Получаю 5. Пишу 5 под десятками.
4. **Читаю** ответ — 56.



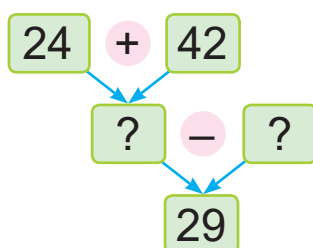
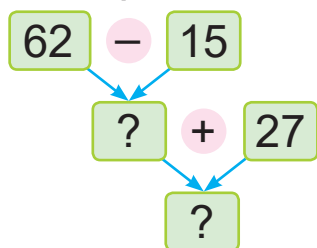
1. Вычисли и объясни.



2. Запиши в столбик. Вычисли.  
 $26 + 41$        $15 + 72$        $47 + 22$        $64 + 35$
3. Какие числа подходят?  
 $48 + ? < 55$        $56 - ? > 52$        $100 > 95 + ?$



4. Найди пропущенные числа.  
Составь равенства.



5. Было 35 телефонов и 22 смартфона. Продали 15 телефонов. Чего осталось больше — телефонов или смартфонов? На сколько больше?
6. У Стефании и Яся были карамельки и ириски. Дети поделили все конфеты между собой. Стефания взяла себе 14 конфет, а Ясь — 15 конфет. Сколько было карамелек, если ирисок было 9?
7. Длина прямоугольника — 8 см, а ширина — 5 см. Найди периметр прямоугольника. Как изменится периметр этого прямоугольника, если его длина увеличится на 2 см, а ширина уменьшится на 2 см?



? Как сложить числа 31 и 53 в столбик?

1. Запиши в столбик. Вычисли.

$$22 + 34 \quad 40 + 31 \quad 65 + 22 \quad 34 + 51$$

2. Прямоугольник имеет длины сторон 12 см и 7 см. Найди периметр этого прямоугольника.