





# Урок 124

**И**

$$\frac{10 : 2 = ?}{5 \cdot 2 = 10}$$



$$\frac{12 : 6 = ?}{2 \cdot 6 = 12}$$



Объясни равенства. Запомни.

$2 \cdot 2 = 4$

$4 : 2 = 2$

$2 \cdot 3 = 6$

$6 : 2 = 3$

$6 : 3 = 2$

$2 \cdot 4 = 8$

$8 : 2 = 4$

$8 : 4 = 2$

$2 \cdot 5 = 10$

$10 : 2 = 5$

$10 : 5 = 2$

$2 \cdot 6 = 12$

$12 : 2 = 6$

$12 : 6 = 2$

$2 \cdot 7 = 14$

$14 : 2 = 7$

$14 : 7 = 2$

$2 \cdot 8 = 16$

$16 : 2 = 8$

$16 : 8 = 2$

$2 \cdot 9 = 18$

$18 : 2 = 9$

$18 : 9 = 2$

1. Составь выражения. Найди их значения.

Делимое	8	8	12	12	18	18
Делитель	2	4	2	6	2	9

2. Вычисли.

$75 - 39$

$100 - 54$

$52 + 19$

$39 + 39$

$65 - 39$

$100 - 64$

$62 + 19$

$38 + 38$

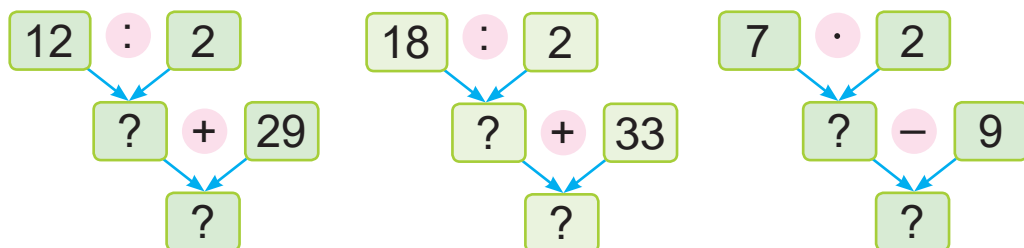
3. Найди пропущенные числа.

• Произведение чисел 2 и ? равно частному чисел 16 и 2.

• Частное чисел 18 и 2 меньше числа 16 на ?.



4. Составь выражения. Найди их значения.



5. Составь задачу. Составь обратные задачи.

Пуговиц на одном пиджаке	Количество пиджаков	Всего пуговиц
?	2	10

6. Дополни задачу по рисунку. Реши задачу.

Толщина стопки из одинаковых книг — ? см. Толщина каждой книги — ? см. Сколько книг в стопке?



7. Найди периметр прямоугольника, если его длина — 6 см, что на 4 см больше его ширины.

❓ Закончи предложение: «Частное чисел 14 и 2 равно...».

1. Вычисли.

$10 : 2$

$10 : 5$

$18 : 9$

$18 : 2$

2. Приготовили 14 л компота и разлили в 7 банок, поровну в каждую банку. Сколько литров компота налили в каждую банку?