

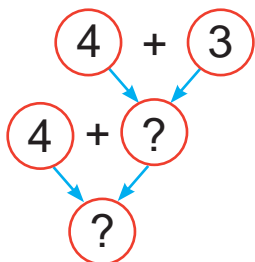
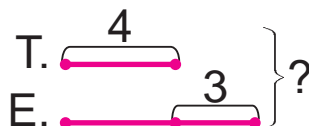
Решение задач в 2 действия



У Тони 4 куклы, а у Евы на 3 куклы больше. Сколько всего кукол у девочек?

Тоня — 4 к.

Ева — ?, на 3 к. больше. } ?



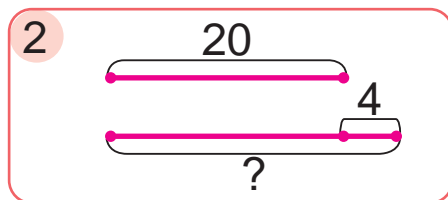
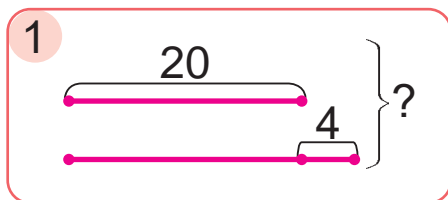
- Сначала узнаю, сколько кукол у Евы.
- Потом узнаю, сколько всего кукол у девочек.



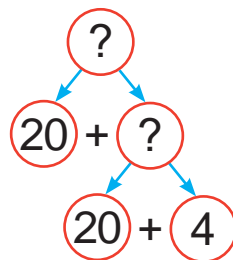
Выполни задания на уроке

1. Выбери схему. Реши задачу.

У Сергея 20 грибов, а у Кузьмы — на 4 гриба больше. Сколько всего грибов у мальчиков?



- Что нужно знать, чтобы ответить на вопрос задачи?
- Что нужно знать, чтобы определить, сколько грибов у Кузьмы?



2. Вычисли.

$54 + 5$

$86 - 70 + 2$

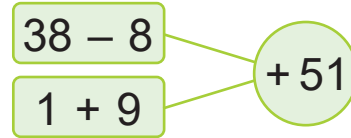
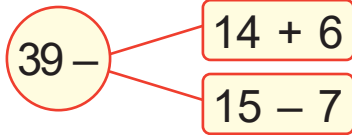
$37 - 2 + 40$

$34 + 40$

$10 + 29 - 3$

$31 + 8 - 20$

3. Составь выражения со скобками. Найди их значения.



4. Реши задачу. Составь обратные задачи.

После того как из автобуса вышли 5 пассажиров, в нём осталось 20 пассажиров. Сколько пассажиров было в автобусе?



Составь вопрос, чтобы задача решалась двумя действиями.

Было 7 берёз, а дубов — на 3 больше.



Выполни задания дома

1. Найди значения выражений.

$65 - 40 + 3$

$78 - 6 - 50$

$95 - 30 + 4$

2. В феврале было 10 пасмурных дней, а солнечных — на 8 дней больше. Сколько всего дней было в феврале?

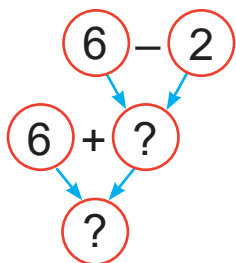
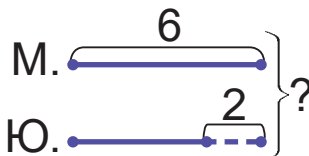
Решение задач в 2 действия



У Миши 6 игрушечных роботов, а у Юры — на 2 робота меньше. Сколько всего игрушечных роботов у мальчиков?

Миша — 6 р.

Юра — ?, на 2 р. меньше.



• Что можно узнать сначала?

• Что можно узнать потом?

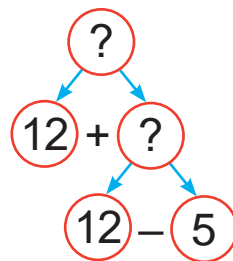


Выполни задания на уроке

1. В Березинском биосферном заповеднике Кирилл сделал 12 фотографий зубров. Фотографий медведей он сделал на 5 меньше. Сколько всего фотографий сделал Кирилл?

• Что нужно знать, чтобы ответить на вопрос задачи?

• Что нужно знать, чтобы определить, сколько фотографий медведей сделал Кирилл?



2. Найди значения выражений.

$40 + 7 + 20$

$4 + 30 + 5$

$30 + 50 + 4$

3. Найди значения выражений.

$39 - 3 + 10$

$(66 - 40) + 2$

$45 - (10 - 9)$

$48 - 4 + 20$

$(55 - 30) + 3$

$56 - (11 - 8)$

$57 - 5 + 30$

$(44 - 20) + 4$

$67 - (12 - 7)$



Каким может быть следующее выражение в каждом столбике?

4. Длина ломаной из двух равных звеньев — 10 см. Начерти такую ломаную.

5. Для проведения викторины купили 47 призов. Дети получили 30 призов. Сколько призов осталось?



Составь вопросы к задаче.

Купили 9 кг груш, а яблок — на 3 кг меньше.



Выполни задания дома

1. Найди значения выражений.

$63 - 2 - 40$

$(76 + 2) - 50$

2. Дети вылепили из пластилина 13 фигурок зверей, а фигурок птиц — на 6 меньше. Сколько всего фигурок зверей и птиц вылепили дети?