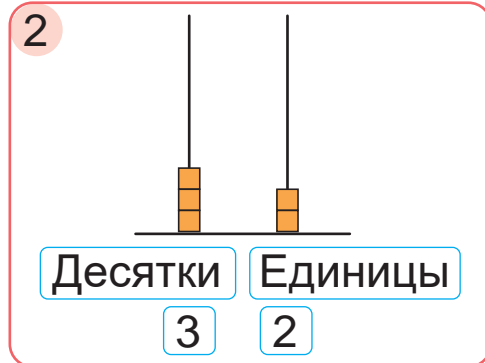
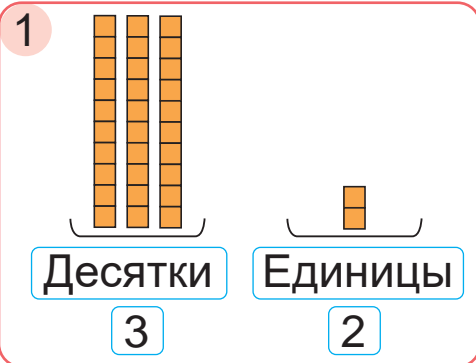


## Подготовка к сложению и вычитанию в столбик

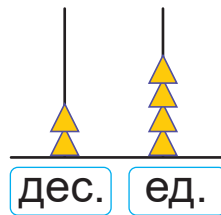
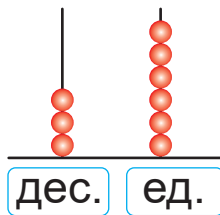
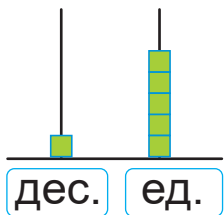


Рассмотри, как показано число 32 на рисунках 1 и 2. Сравни рисунки.

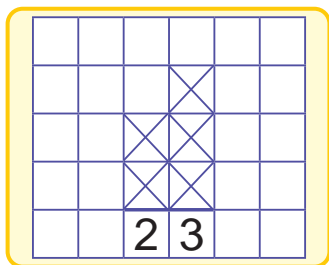


Выполни задания на уроке

1. Запиши числа. Сколько десятков? Единиц?



2. Сделай в тетради рисунки по образцу.



63

55

34

43

16

60

3. Вычисли. Выполни проверку.

$$56 - 29 \quad 100 - 47 \quad 28 + 16 \quad 34 + 66$$

4. В костюмерной театра было 29 мужских и 48 женских костюмов. Для спектакля взяли несколько костюмов. Осталось 63 костюма. Сколько костюмов взяли для спектакля?

5. Дети с учительницей за 13 мин дошли от школы до парка. Там они гуляли 30 мин, а потом возвращались в школу 18 мин. Хватило ли им 1 ч на эту прогулку?

6. Составь и реши задачу.

1 — 32 кг слив.	}	?
2 — ?, на 15 кг слив больше.		

? Сколько десятков и сколько единиц в числах?

27

30

88



### Выполни задания дома

1. Вычисли.

$$36 + 28 \quad 77 + 23 \quad 63 - 57 \quad 45 - 39$$

2. В магазине было 25 ящиков с помидорами и 32 ящика с огурцами. К вечеру осталось 30 ящиков с овощами. Сколько ящиков с овощами было продано за день?



3. Вычисли.

$$62 - 15 + 27$$

$$24 + 42 - 37$$

4. В магазине было 35 холодильников «Атлант» и 22 морозильника. Продали 15 холодильников. Чего осталось больше — холодильников или морозильников? На сколько больше?

5. У Любы и Веры были карамельки и ириски. Дети поделили все конфеты между собой. Люба взяла себе 14 конфет, а Вера — 15 конфет. Сколько было карамелек, если ирисок было 9?



6. Длины сторон прямоугольника — 8 см и 5 см. Найди его периметр.



Как выполнить сложение чисел 31 и 53 в столбик?



### Выполни задания дома

1. Запиши в столбик. Вычисли.

$$22 + 34$$

$$40 + 31$$

$$65 + 22$$

$$37 + 51$$

2. Прямоугольник имеет длины сторон 12 см и 7 см. Найди периметр этого прямоугольника.