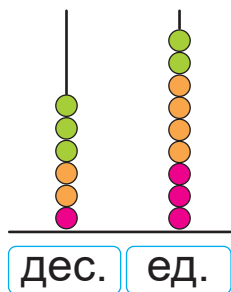


Сложение в столбик



Объясни, как выполнили сложение трёх чисел в столбик.



	1	3
+	2	4
	3	2
	6	9



Выполни задания на уроке

1. Запиши в столбик. Вычисли.

$$24 + 50 + 12$$

$$55 + 19 + 26$$

$$36 + 11 + 41$$

$$37 + 15 + 29$$

$$31 + 27 + 22$$

$$16 + 48 + 17$$

2. $25 + 15$? $50 - 15$

$31 + 32$? $60 + 3$



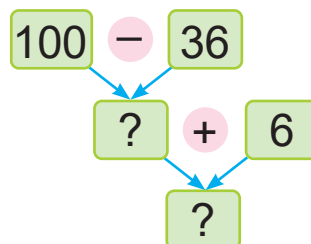
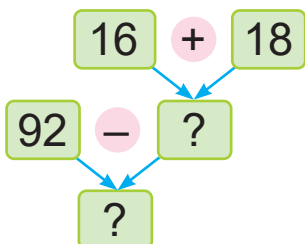
$19 - 12$? $68 - 60$

$38 + 14$? $60 - 7$

$100 - 1$? $19 + 80$

$34 + 6$? $48 - 9$

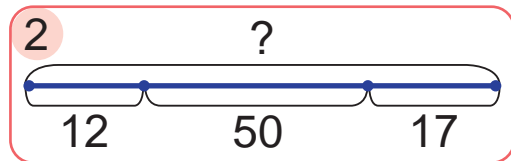
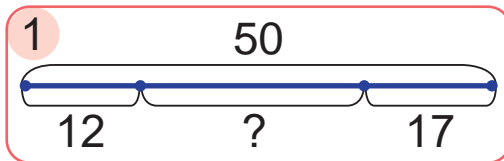
3. Найди пропущенные числа. Составь равенства.



4. В трёх весенних месяцах всего 92 дня. В марте и мае по 31 дню. Сколько дней в апреле?

5. Выбери схему. Реши задачу.

На дороге нужно установить 50 дорожных знаков. В первый день установили 12 знаков, а во второй — ещё несколько знаков. Осталось установить 17 знаков. Сколько дорожных знаков установили во второй день?



6. Измерь длины сторон прямоугольника. Найди его периметр.



Как выполнить сложение чисел 32, 33 и 34 в столбик?



Выполни задания дома

1. Запиши в столбик. Вычисли.

$$23 + 21 + 25 \quad 37 + 25 + 29 \quad 46 + 35 + 19$$

2. В одной баночке 32 витаминки. Это на 12 витаминок больше, чем в другой баночке. Сколько всего витаминок в этих баночках?

Закрепление



Выполни задания на уроке

1. Запиши в столбик. Вычисли.

$$57 + 32$$

$$43 + 57$$

$$16 + 61 + 23$$

$$38 + 52$$

$$39 + 48$$

$$29 + 29 + 29$$

2. Выпиши в один столбик выражения, значения которых равны 47. В другой столбик выпиши выражения, значения которых равны 78.

$$13 + 40$$

$$43 + 4$$

$$8 + 70$$

$$100 - 47$$

$$90 - 12$$

$$79 - 1$$

$$7 + 40$$

$$100 - 53$$

3. Вычисли.

$$41 \text{ см} + 5 \text{ дм}$$

$$6 \text{ дм } 6 \text{ см} - 6 \text{ дм}$$

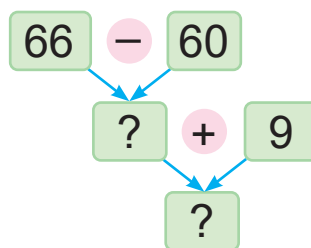
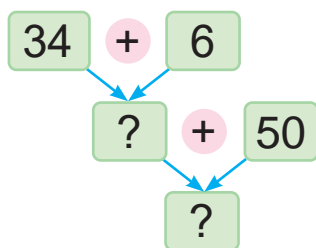
$$10 \text{ дм} - 80 \text{ см}$$

$$5 \text{ дм } 3 \text{ см} + 4 \text{ см}$$

$$98 \text{ см} - 7 \text{ дм}$$

$$1 \text{ м} - 7 \text{ дм}$$

4. Найди пропущенные числа. Составь равенства.



5. Составь выражения. Найди их значения.

Слагаемое	$53 + 8$	71	$100 - 27$
Слагаемое	39	$76 - 47$	27

6. В магазине продавали велосипеды «Аист». Горных велосипедов продали 27, а детских — на 13 больше. Потом продали ещё 16 детских велосипедов. Сколько всего продали детских велосипедов?
7. У фермера есть разные птицы. В таблице показано, сколько десятков яиц снесли эти птицы за один день. Например, утки снесли 4 десятка яиц.
- Сколько десятков яиц снесли перепёлки?
 - На сколько меньше в день фермер собрал перепелиных яиц, чем куриных и утиных вместе?

Куры	■	■	■	■	■	■	■			
Перепёлки	■	■	■	■	■	■	■			
Утки	■	■	■	■						



Выполни задания дома

1. Запиши в столбик. Вычисли.
 $36 + 48$ $47 + 23$ $25 + 39 + 36$
2. В кружок «Белорусская песня» записались 17 мальчиков, а девочек — на 9 больше. Сколько всего детей записалось в кружок?