


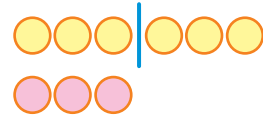


Урок 16

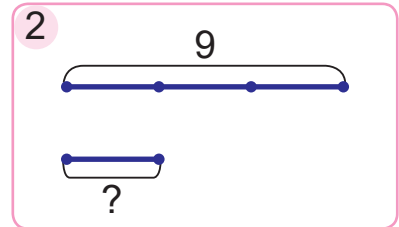
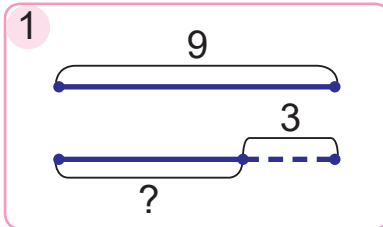
Было 6 маленьких ракеток, а вя-
лікіх — у 2 разы менш. Колькі
было вялікіх ракетак?



Маленькіх — 6.
Вялікіх — ?, у 2 разы менш.



- Выберы схему да кожнай задачы. Рашы задачы.
 - У гуртку роботатэхнікі 9 хлопчыкаў, а дзяўчынак — на 3 менш. Колькі дзяўчынак у гуртку?
 - У гуртку роботатэхнікі 9 хлопчыкаў, а дзяўчынак — у 3 разы менш. Колькі дзяўчынак у гуртку?



- Сыну 6 гадоў. Колькі гадоў маме, калі яна ў 4 разы старэйшая за сына?
- Састаў выразы. Знайдзі іх значэнні.

Паменшы ў 3 разы.

?	?	?	?	?
27	24	18	15	12
?	?	?	?	?

Паменшы на 3.



4. Састаў выразы. Знайдзі іх значэнні.
- Дзель лікаў 16 і 4.
 - Здабытак лікаў 3 і 8.
 - Дзель лікаў 24 і 6.
 - Здабытак лікаў 4 і 2.
 - Лік 36 паменшыць у 9 разоў.
 - Лік 24 паменшыць у 8 разоў.
5. На колькі адзін лік большы або меншы за другі?
- | | | |
|---------|---------|----------|
| 99 і 48 | 24 і 70 | 82 і 29 |
| 12 і 45 | 28 і 16 | 42 і 100 |
6. На выставе сабак было 25 лабрадораў. 3 іх — 7 чорных, а астатнія — карычневых. На колькі больш было карычневых лабрадораў, чым чорных?
7. Рашы задачы.
- Знайдзі перыметр квадрата, даўжыня стараны якога роўная 7 см.
 - Знайдзі даўжыню стараны квадрата, перыметр якога роўны 32 см.

? Прачытай выразы, выкарыстоўваючы слова «паменшыць».

$$27 : 9$$

$$36 : 4$$

1. Устаў прапушчаныя лікі, каб роўнасці былі правільныя.

$$4 \cdot ? = 36$$

$$? \cdot 7 = 21$$

$$24 : ? = 8$$

$$? : 3 = 6$$

2. Купілі 20 сшыткаў у клетку, а сшыткаў у лінейку — у 4 разы менш. Колькі сшыткаў у лінейку купілі?