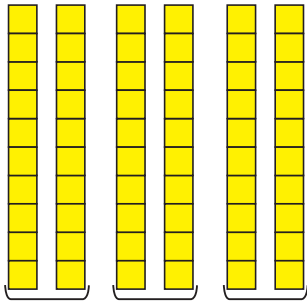




Урок 41



$$20 \cdot 3 = 2 \text{ дзяс.} \cdot 3 = 6 \text{ дзяс.} = 60$$

$$60 : 3 = 6 \text{ дзяс.} : 3 = 2 \text{ дзяс.} = 20$$

$$60 : 20 = 6 \text{ дзяс.} : 2 \text{ дзяс.} = 3$$

1. Вылічы і растлумач.

$10 \cdot 4$

$30 \cdot 2$

$40 \cdot 2$

$20 \cdot 4$

$40 : 4$

$60 : 2$

$80 : 2$

$80 : 4$

$40 : 10$

$60 : 30$

$80 : 40$

$80 : 20$

2. Вылічы па ўзоры.

$$\begin{array}{r} 3 \cdot 20 = 60 \\ 20 \cdot 3 = 60 \end{array}$$

$3 \cdot 30$

$4 \cdot 20$

$2 \cdot 50$

3. Знайдзі значэнні выразу $b + 20 \cdot b - 14$, калі b роўна 1; 2; 3; 4.

4. Вылічы ў слупок. Выканай праверку.

$83 - 26$

$56 + 39$

$77 - 49$

$52 + 19$

5. Міша прынёс 30 л вады ў шасці аднолькавых вёдрах. Кожны раз ён прыносіў па 2 вядры вады. Колькі літраў вады Міша прыносіў кожны раз?

6. У запаведніку нарыхтавалі на зіму 10 стагоў сена для падкормкі зуброў, а для падкормкі ласёў — у 3 разы больш стагоў сена.

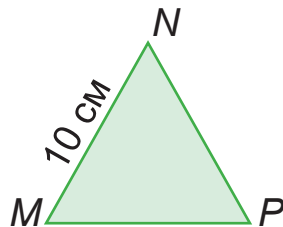
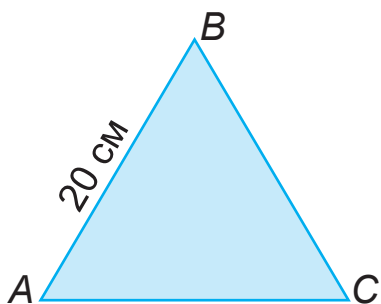
- Колькі ўсяго стагоў сена нарыхтавалі?
- На колькі больш стагоў сена нарыхтавалі для ласёў, чым для зуброў?



7. Састаў выраз, які будзе рашэннем задачы. Федзя кожную раніцу падцягваецца на турніку 5 разоў, а кожны вечар — c разоў. Колькі разоў Федзя падцягваецца на турніку за тыдзень?

8. Знайдзі адказ задачы 7, калі c роўна 3; 4; 5.

9. Дапоўні задачу па малюнку. Рашы задачу. Даўжыня кожнай стараны трохвугольніка ABC роўная $?$ см, а даўжыня кожнай стараны трохвугольніка MNP роўная $?$ см. У колькі разоў перыметр трохвугольніка MNP меншы за перыметр трохвугольніка ABC ?



? Растлумач, як 40 памножыць на 2; як 40 падзяліць на 2; як 40 падзяліць на 20.

1. Вылічы.

$$30 \cdot 3 - 48$$

$$2 \cdot 20 + 53$$

$$80 : 4 : 5 \cdot 10$$

$$80 : 40 \cdot 10 \cdot 4$$

2. Мультфільм доўжыўся 30 мін, а рэклама — у 10 разоў менш. На колькі мінут рэклама доўжылася менш, чым мультфільм?