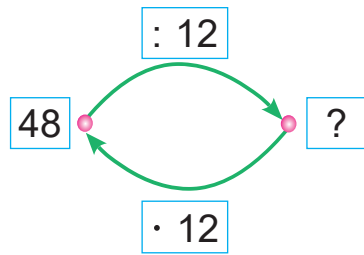




Урок 49

Як падзяліць двухзначны лік на двухзначны?

- $48 : 12 = ?$
- $2 \cdot 12 = 24$
- $3 \cdot 12 = 36$
- $4 \cdot 12 = 48$
- $5 \cdot 12 = 60$



1. Спрабую розныя адназначныя лікі памножыць на дзельнік.
2. Выбіраю лік, пры множанні якога на дзельнік атрымліваецца дзялімае.



1. Вылічы.

$45 : 15$	$62 : 31$	$96 : 16$	$100 : 25$
$88 : 22$	$85 : 17$	$84 : 12$	$90 : 15$

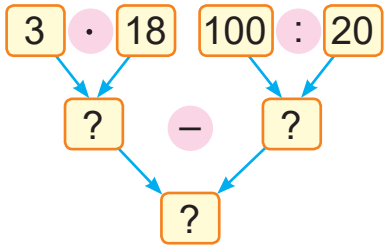
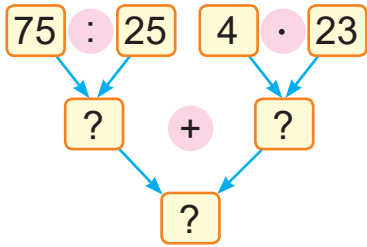
2. Адкажы на пытанні.

- У колькі разоў 14 менш за 28? 42? 70?
- На колькі 14 менш за 28? 42? 70?
- У колькі разоў 96 больш за 2? 6? 8?
- На колькі 96 больш за 2? 6? 8?

3. Састаў правільныя роўнасці і няроўнасці, выкарыстоўваючы выразы.

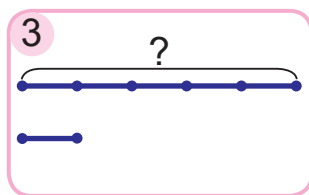
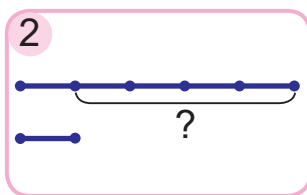
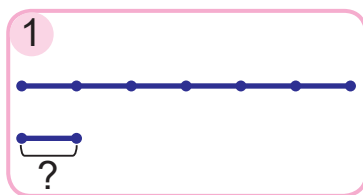
$17 \cdot 4 - 60$	$90 : 5 + 18$	$64 : 8$	$2 \cdot 18$
-------------------	---------------	----------	--------------

4. Састаў выразы і знайдзі іх значэнні.





5. Купілі некалькі набораў з фламастарамі, па 6 фламастараў у кожным. Усяго купілі 54 фламастары. Колькі купілі набораў?
6. Для паездкі на экскурсію 42 хлопчыкі і 33 дзяўчынкі селі ў 3 аўтобусы, пароўну ў кожны. Колькі дзяцей апынулася ў кожным аўтобусе?
7. Арына і Марына ў 15 г выйшлі насустрач адна адной. Арына прайшла да сустрэчы 25 м, што ў 2 разы менш, чым прайшла Марына. Ці правільна, што паміж імі было 100 м да пачатку руху?
8. Выберы схему. Рашы задачу.
Тату 35 гадоў. Тата ў 5 разоў старэйшы за сына. На колькі гадоў тата старэйшы за сына?



На колькі гадоў тата будзе старэйшы за сына праз 10 гадоў?



9. Знайдзіце тры лікі, здабытак якіх роўны іх суме.



Як падзяліць 45 на 15?

1. Вылічы.

$84 : 21$

$65 : 13$

$78 : 26$

$87 : 29$

2. Маса скрыні з абрыкосамі — 12 кг, а скрыні з персікамі — на 24 кг большая. У колькі разоў скрыня з персікамі цяжэйшая за скрыню з абрыкосамі?