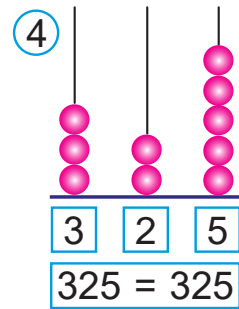
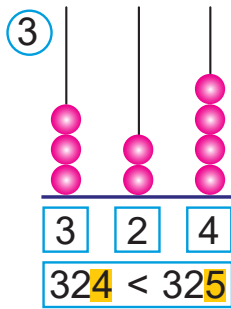
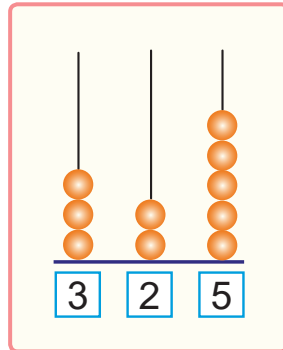
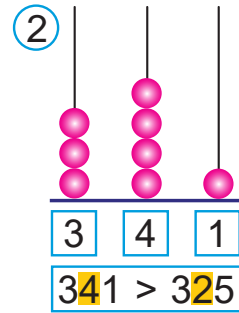
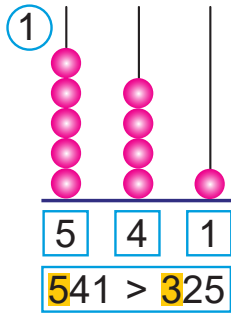





Урок 81

Як параўнаць трохзначныя лікі?



1. Параўноўваю сотні. Большы той лік, у якім больш соцень. 
2. Калі соцень у адным ліку столькі ж, колькі ў другім, параўноўваю дзясяткі. Большы той лік, у якім больш дзясяткаў.
3. Калі дзясяткаў у адным ліку столькі ж, колькі ў другім, параўноўваю адзінкі. Большы той лік, у якім больш адзінак.

1. Параўнай.
- 784 ? 901
- 593 ? 527
- 962 ? 969

- 200 + 3 ? 200 - 1
- 190 - 1 ? 190 + 7
- 307 + 20 ? 305 - 5



2. Вылічы па ўзоры.

$$300 \cdot 2 = 3 \text{ сот.} \cdot 2 = 6 \text{ соц.} = 600$$

$$600 : 2 = 6 \text{ соц.} : 2 = 3 \text{ сот.} = 300$$

$$600 : 300 = 6 \text{ соц.} : 3 \text{ сот.} = 2$$

$200 \cdot 4$

$100 \cdot 5$

$2 \cdot 400$

$3 \cdot 300$

$800 : 4$

$500 : 5$

$800 : 2$

$900 : 3$

$800 : 200$

$500 : 100$

$800 : 400$

$900 : 300$

3. Рашы ўраўненні.

$84 : x = 21$

$a : 12 = 3$

$y \cdot 12 = 96$

4. Ад дома да магазіна 300 м. Мама выйшла з дому, прыйшла ў магазін і ўспомніла, што пакінула дома кашалёк. Яна вярнулася дадому, узяла кашалёк і зноў прыйшла ў магазін. Колькі ўсяго метраў прайшла мама?

5. Даўжыня прамавугольніка $ABCD$ у 4 разы большая за яго шырыню. Шырыня гэтага прамавугольніка меншая за даўжыню на 6 см.

- Знайдзі даўжыню прамавугольніка $ABCD$.
- Знайдзі перыметр прамавугольніка $ABCD$.

? Растлумач, як параўнаць лікі 542 і 540.

1. Параўнай.

$394 \text{ ? } 300 + 90 + 4$

$200 + 200 \text{ ? } 200 \cdot 2$

$786 \text{ ? } 700 + 80 + 7$

$800 - 500 \text{ ? } 600 : 3$

2. Маса двух аднолькавых мяхоў бульбы — 100 кг, а маса такога ж меха бульбы і меха морквы — 80 кг. Знайдзі масу меха морквы.