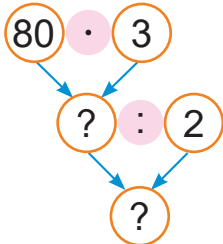





# Урок 113

Дзядуля купіў 3 шклянкі малін, па 80 г у кожнай. Усе маліны ён перасыпаў у 2 кубкі, пароўну ў кожны. Знайдзі масу малін у кожным кубку.

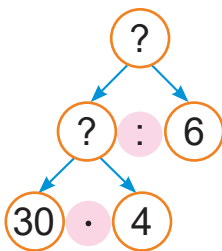


- Спачатку даведаюся, колькі ўсяго грамаў малін купіў дзядуля.
- Потым даведаюся масу малін у адным кубку.



1. Цеплаход ішоў 4 г па цячэнні ракі са скорасцю 30 км/г. Адваротны шлях ён пераадолеў за 6 г. З якой скорасцю ішоў цеплаход на адваротным шляху?

Скорасць (км/г)	Час (г)	Адлегласць (км)
30	4	аднолькавая
?	6	



- Што трэба ведаць, каб адказаць на пытанне задачы?
- Што трэба ведаць, каб вызначыць адлегласць, пройдзеную цеплаходам на адваротным шляху?

2. Знайдзі значэнні выказаў.

$$\begin{array}{lll}
 375 \cdot 2 & 3 \cdot 327 & 646 + 287 - 454 \\
 149 \cdot 4 & 2 \cdot 467 & 397 - 259 + 862
 \end{array}$$

3. Знайдзі значэнні выразу  $a \cdot 34 + 397$ , калі  $a$  роўна 3; 5; 7.



4. Састаў ураўненні і рашы іх.
- Невядомы лік павялічылі ў 5 разоў і атрымалі 750.
  - Лік 17 павялічылі ў некалькі разоў і атрымалі 68.

5. У запаведніку на два дні зубру выдаюць цэнтнер зялёнай масы. Колькі кілаграмаў зялёнай масы выдадуць пяці зубрам на 4 дні?



6. У Алеся ёсць вядро ёмістасцю 8 л, запоўненае вадой, і пусты слоік ёмістасцю 3 л. Як Алесю наліць з поўнага вядра ў каструлю 2 л вады для прыгатавання кашы сабаку Тузіку, калі лішнюю ваду можна выліваць у ракавіну?



Яна кажа:

Каб адмераць 2 л вады, Алесю спатрэбіцца 1 раз пераліць ваду з вядра ў слоік.

Ці праўду кажа Яна?

- ? У чатырох пакетах было па 20 цукерак. Усе цукеркі падзялілі пароўну паміж дзесяццю дзецямі. Па колькі цукерак атрымала кожнае дзіця?

1. Вылічы.

$$131 \cdot 5 - 289$$

$$6 \cdot (500 - 366)$$

2. Гаспадыня прадала на рынку 6 мяхоў морквы, па 40 кг у кожным, і столькі ж кілаграмаў буракоў у васьмі аднолькавых мяхах. Колькі кілаграмаў буракоў было ў адным мяху?