



Урок 114

Разгледзь малюнак. Раствлумач два спосабы вылічэнняў.

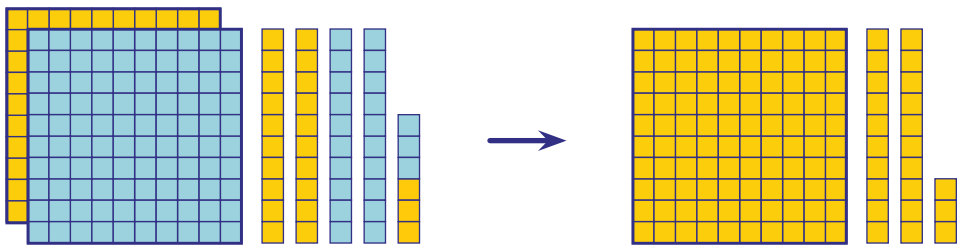


Спосаб 1. $(2 + 4 + 6) : 2 = 12 : 2 = 6$

Спосаб 2. $2 : 2 + 4 : 2 + 6 : 2 = 1 + 2 + 3 = 6$

$(2 + 4 + 6) : 2 = 2 : 2 + 4 : 2 + 6 : 2$

Разгледзь малюнак. Раствлумач вылічэнні.



$$246 : 2 = (200 + 40 + 6) : 2 = 200 : 2 + 40 : 2 + 6 : 2 = 100 + 20 + 3 = 123$$

1. Вылічы двума спосабамі. Раствлумач.

$$(6 + 9 + 12) : 3$$

$$(30 + 10 + 40) : 5$$

$$(36 + 6 + 18) : 6$$

$$(60 + 20 + 4) : 4$$

2. Вылічы.

$$824 : 2$$

$$844 : 4$$

$$999 : 3$$

$$684 : 2$$

$$482 : 2$$

$$484 : 4$$

$$666 : 3$$

$$486 : 2$$

3. Рашы ўраўненні.

$$545 : x = 1$$

$$a : 284 = 0$$

$$b \cdot 1 = 375$$

$$y : 2 = 270$$

$$480 : t = 4$$

$$k \cdot 70 = 910$$

4. Вылічы.

$$112 \cdot 4 + 200$$

$$1000 - (612 - 351) \cdot 3$$

$$3 \cdot 213 - 400$$

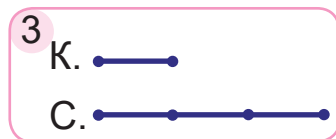
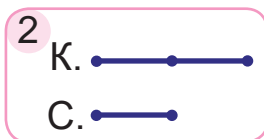
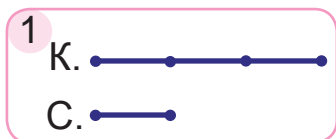
$$(245 + 91) \cdot 2 - 370$$



5. Пасажырскі цягнік быў у дарозе 6 г, рухаючыся са скорасцю 90 км/г. Таварны цягнік прайшоў гэту адлегласць за 9 г. Знайдзі скорасць таварнага цягніка.
6. Выберы задачу, якая падыходзіць да кароткага запісу. Рашы задачу.

Умяшчальнасць аднаго слоіка (л)	Колькасць слоікаў (шт.)	Умяшчальнасць усіх слоікаў (л)
аднолькавая	5	?
	6	18

- У васьмнаццаці аднолькавых слоіках змяшчаецца 6 л кампоту. Колькі такіх слоікаў трэба для 5 л кампоту?
 - Колькі літраў кампоту ў пяці аднолькавых слоіках, калі ў шасці такіх слоіках 18 л кампоту?
7. Выберы схему. Рашы задачу.
Сям'я купіла канапу і стол і заплаціла за пакупку 960 р. Цана стала была ў 3 разы меншая, чым цана канапы. Знайдзі цану стала.



? Растлумач, як падзяліць 396 на 3.

1. Вылічы.

$682 : 2$

$468 : 2$

$884 : 4$

$936 : 3$

2. Купілі 6 саджанцаў чарэшні, па 12 р. кожны, і на тую ж суму саджанцаў слівы, па 9 р. кожны. Колькі саджанцаў слівы купілі?