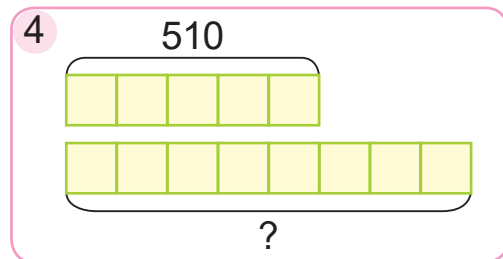
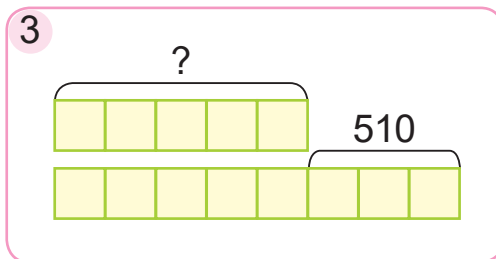
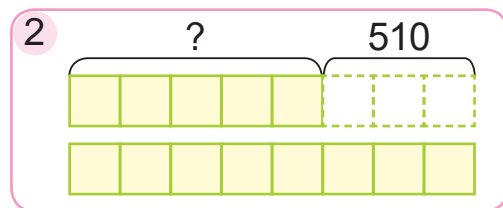
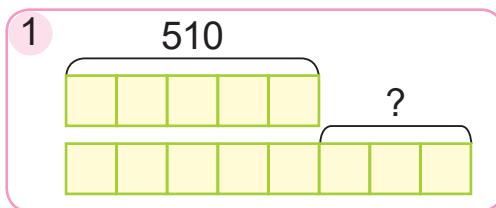




7. Састаў выраз, які будзе рашэннем задачы.
Прадалі 20 кг абрыкосаў па цане a р. за кілаграм і 30 кг чарэшні па той жа цане. Якая сума грошай была атрымана за ўсю прададзеную садавіну?
8. Выберы схемы. Рашы задачу.
Маса пяці пачкаў тварагу на 510 г меншая за масу васьмі такіх пачкаў. Знайдзі масу пяці пачкаў тварагу.



- ? Дапоўні сказ.
«Пры множанні 140 на 70 спачатку множу 14 дзясяткаў на ..., а потым вынік множу на ...».

1. Вылічы.

$$540 \cdot 30 \qquad 1700 \cdot 400 \qquad 2340 \cdot 200$$

2. Для будаўніцтва выдзелілі 6 аднолькавых па плошчы ўчасткаў зямлі на вуліцы Лясной і 3 такія ж участкі на вуліцы Кляновай. Агульная плошча гэтых участкаў склала 135 а. Знайдзі плошчу ўчасткаў зямлі на вуліцы Лясной і на вуліцы Кляновай.



Урок 90

1. Вылічы.

$125 \cdot 100$

$84 \cdot 1000$

$15 \cdot 10\,000$

$9200 : 100$

$32\,100 : 10$

$650\,000 : 10\,000$

2. Вылічы.

$1572 : 2$

$34\,560 : 8$

$301\,920 : 6$

$5725 : 5$

$443\,856 : 7$

$360\,837 : 9$

3. Вядома, што $a \cdot b = 170$. Знайдзі значэнні выразаў.

$(a \cdot 10) \cdot b$

$a \cdot (b \cdot 2)$

$b \cdot (a \cdot 4)$

$(a \cdot 5) \cdot (b \cdot 2)$

4. Вылічы.

$17 \cdot 5 \cdot 2$

$133 \cdot 20$

$1400 \cdot 200$

$20 \cdot 29 \cdot 5$

$524 \cdot 400$

$2160 \cdot 300$

$25 \cdot 33 \cdot 4$

$670 \cdot 80$

$47 \cdot 3000$

5. За 8 аднолькавых кніг заплацілі 144 р. Колькі рублёў будзе каштаваць у 2 разы меншая колькасць кніг?

6. Для таго каб пашыць 15 сініх і 5 чырвоных плашчоў, спатрэбілася 120 м тканіны. Колькі метраў тканіны пайшло на сінія і чырвоныя плашчы паасобку, калі на кожны плашч расходавалася аднолькавая колькасць тканіны?

7. Параўнай задачу з задачай 6. Рашы задачу.

На 15 сініх плашчоў пайшло на 60 м тканіны больш, чым на 5 чырвоных плашчоў. Колькі метраў тканіны пайшло на сінія і чырвоныя плашчы паасобку, калі на кожны плашч расходавалася аднолькавая колькасць тканіны?



8. Уяві, што ў цябе ёсць 15 р. у дзвюх купюрах, па 10 р. і 5 р. Ты даў іх касіру ў магазіне, каб заплаціць за 5 пачкаў вафель, па 2 р. 17 к. кожны. Касір вярнуў табе 5 р. і даў яшчэ 15 к. рэшты. Ці не памыліўся касір?



9. Яна і Алесь хочуць спячы бульбяную бабку. Па рэцэпце яе трэба запякаць у разагрэтай да патрэбнай тэмпературы духоўцы 55 мін. У Яны ёсць пясочны гадзіннік на 20 мін, а ў Алеся — на 15 мін. Дзеці хочуць вызначыць патрэбны час для выпякання бульбяной бабкі з дапамогай гэтых пясочных гадзіннікаў.



Яна кажа:

З дапамогай тваіх і маіх пясочных гадзіннікаў немагчыма вызначыць прамежак часу 55 мінут.

Алесь кажа:

А я думаю, што магчыма, калі спачатку выкарыстоўваць твой і мой гадзіннікі адначасова.



Чыя праўда?

- Знайдзі значэнні выразаў.
 $1680 \cdot 20$ $5900 \cdot 20$ $1620 \cdot 300$
- За 7 г верталёт праляцеў на 720 км больш, чым за 4 г. Колькі кіламетраў праляцеў верталёт за 4 г, калі яго скорасць была аднолькавая?