



## Урок 94

Разгледзь, як знайшлі дзель лікаў 360 і 30.

$$360 : 30 = 360 : (3 \cdot 10) = 360 : 10 : 3 = 12$$

1. Трэба 360 падзяліць на 30.
2. Прадстаўляю дзельнік 30 у выглядзе здабытку лікаў 3 і 10.
3. Спачатку дзялю 360 на 10, атрымліваю 36.
4. Потым дзялю 36 на 3, атрымліваю 12.



1. Замяні дзельнік здабыткам двух лікаў. Вылічы.

$720 : 30$	$6400 : 20$	$480\,000 : 60$
$720 : 40$	$6400 : 80$	$480\,000 : 20$

2. Параўнай два спосабы вылічэнняў. Вылічы рознымі спосабамі.

**Спосаб 1**  $630 : 70 = 63 \text{ дзяс.} : 7 \text{ дзяс.} = 9$

**Спосаб 2**  $630 : 70 = 630 : (7 \cdot 10) = 630 : 10 : 7 = 9$

$810 : 30$	$6500 : 500$	$99\,000 : 9000$
------------	--------------	------------------

3. Вызнач, значэнне якой велічыні большае. У колькі разоў большае?

5 км або 500 м	3 г або 90 мін
12 т або 300 кг	14 м <sup>2</sup> або 700 см <sup>2</sup>

4. Рашы ўраўненні.

$150 \cdot x = 450$	$n + 708 = 1834$
$a \cdot 200 = 6200$	$m - 183 = 2095$
$25\,000 : y = 5000$	$3421 + b = 7001$

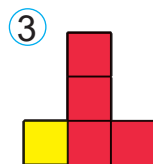
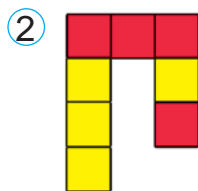
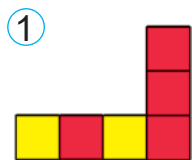
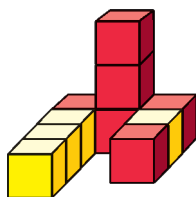
5. Парусная лодка за 2 г праплыла 41 км. Колькі кіламетраў яна праплыве за 4 г, рухаючыся з той жа скорасцю?



6. У спякотны дзень у магазiне прадалі 36 кг шакаладнага марожанага і 54 кг ванільнага марожанага ў аднолькавых брыкетах. Ванільнага марожанага было прададзена на 200 брыкетаў больш, чым шакаладнага. Колькі брыкетаў марожанага кожнага віду было прададзена?

7. Купілі 2 кг сліў па цане 2 р. 30 к. за кілаграм і 3 кг вішань. Вылічы кошт вішань, калі мама дала прадаўцу чатыры купюры па 5 р. і атрымала рэшту 4 р. 90 к.

8. Фігура складзена з кубікаў. Які з малюнкаў з'яўляецца відам гэтай фігуры спераду? Справа? Зверху?



Вылічы рознымі спосабамі.

$$540 : 60$$

1. Вылічы рознымі спосабамі.

$$390 : 30$$

$$16\ 000 : 400$$

$$720\ 000 : 80$$

2. На будоўлю прывезлі 24 т пяску і 260 ц гравію. Для гэтага самазваламі было зроблена 100 рэйсаў. Колькі рэйсаў спатрэбілася для перавозкі пяску і гравію паасобку, калі за кожны рэйс самазвалы перавозілі аднолькавую масу грузу?